

Ruta de Mejora

Octubre

1º Grado

Nombre del alumno _____

No. de lista _____

Escuela _____

Grupo _____

Nombre del maestro _____

Sección _____

OPERACIONES BÁSICAS

Operación	Calif.
Suma (+)	
Resta (-)	
Suma	
Promedio	

COMPRENSIÓN LECTORA

	Marcar aciertos			Calif.
● Localización y obtención de información explícita.	0	1	2	
▲ Realización de inferencias directas.	0	1	2	
■ Interpretación e integración de ideas e información.	0	1	2	
◆ Análisis y evaluación del contenido.	0	1	2	

EQUIVALENCIA

0 aciertos = 50 1 acierto = 75
2 aciertos = 100

Suma

Promedio

ESCRITURA

Promedio

Problemas Razonados

Promedio

Migdalia
TREVINO®



Contacto

(81) 8375 0127

(81) 8374 3920

www.edimae.com

*Exige tu material original



📍 Lee el siguiente texto y contesta correctamente las preguntas.

Los grillos



Los grillos son insectos expertos en saltar. Usan sus patas traseras para brincar, mismas que tienen músculos desarrollados que funcionan como resortes permitiendo lanzar al grillo hacia adelante. Y aunque saltan menos que sus primos los saltamontes, corren por el suelo mucho más rápido que sus parientes. Los grillos también tienen alas, pero solo las emplean para vuelos cortos de una planta a otra o para huir de sus enemigos.

Su madriguera la excavan en el suelo y consiste en una galería de más de medio metro que termina en una habitación esférica. La entrada siempre la mantienen limpia, ya que la utilizan como zona de canto. Por lo general, su canto únicamente lo produce el macho, frotando entre sí las bases de sus alas para atraer y cortejar a las hembras.

En el verano la hembra realiza agujeros en el suelo para depositar ahí



sus huevos y después de dos a tres semanas salen pequeñas crías de color pálido y sin alas.

Durante su crecimiento experimentan cambios como la presencia de alas, el aumento de tamaño y muchas veces adquieren una coloración más oscura.

Estos insectos son omnívoros; lo que significa que comen tanto hojas y tallos, como insectos. Por otro lado, entre sus principales depredadores, es decir, aquellos animales que se alimentan de grillos, están los pájaros, los roedores y las lagartijas.

Los grillos son de naturaleza nocturna y renuevan los minerales de la tierra al descomponer los materiales de las plantas; no obstante, en comunidades agrícolas representan una plaga muy destructiva porque se alimentan de las cosechas y las semillas.


● 1. ¿Qué comen los grillos?

A.



hojitas

B.



migajas de pan


C.



carne


● 2. ¿Con cuál de los siguientes animales están emparentados los grillos?

A.



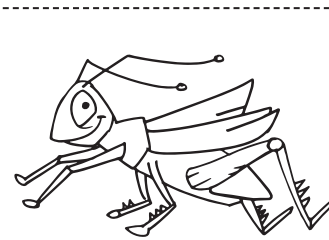
arañas

B.



ranas

C.




saltamontes



- ▲ 3. ¿Para qué frotan las alas los grillos?
- A. Para caminar.
 - B. Para saltar.
 - C. Para llamar a las hembras.
- ▲ 4. ¿Por qué pueden saltar los grillos?
- A. Porque sus patas se los permite.
 - B. Porque tienen mucha energía.
 - C. Porque les gusta saltar.
- 5. Si tuvieras un grillo y quisieras ayudarlo para que hiciera su madriguera, ¿en dónde lo pondrías?
- A. En una caja de zapatos.
 - B. En un patio con tierra.
 - C. Cerca de un bote con agua.
- 6. ¿En qué lugar causarían problemas si existieran muchos grillos?
- A. En una casa
 - B. En un parque
 - C. En una granja
- ◆ 7. Cuando en el texto se habla de los hábitos nocturnos de los grillos, ¿a qué se refieren?
- A. Que les gusta comer otros insectos.
 - B. Que adquieren una coloración oscura.
 - C. Que salen en la noche.
- ◆ 8. ¿Cuál es uno de los animales que se alimenta de grillos?
- A. el gato
 - B. el ratón
 - C. el perro

Nombre: Grupo: No. lista:

📍 Observa la imagen y completa la redacción con las palabras del recuadro.



Alejo el sale a comer una


y el Diego bebe

La Paca pasea por el

mientras una se come una rica







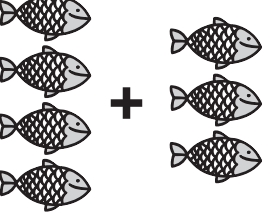









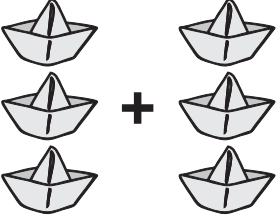

📍 Observa la imagen y completa la redacción con las palabras del recuadro.



Mi y yo jugamos en el
con un de fútbol; mientras mi
..... Abundio toca su y mi
..... Esther y mi no paran
de platicar y tejer bufandas.




Resuelve correctamente las siguientes operaciones.


Suma +	Resta -	Suma +	Resta -
 <p>¿Cuántos son? <input type="text"/></p>	<p>Tacha 3:</p>  <p>¿Cuántos quedan? <input type="text"/></p>	 <p>¿Cuántas son? <input type="text"/></p>	<p>Tacha 2:</p>  <p>¿Cuántos quedan? <input type="text"/></p>
 <p>¿Cuántos son? <input type="text"/></p>	<p>Tacha 4:</p>  <p>¿Cuántas quedan? <input type="text"/></p>	 <p>¿Cuántos son? <input type="text"/></p>	<p>Tacha 4:</p>  <p>¿Cuántos quedan? <input type="text"/></p>
 <p>¿Cuántos son? <input type="text"/></p>	<p>Tacha 2:</p>  <p>¿Cuántas quedan? <input type="text"/></p>	 <p>¿Cuántos son? <input type="text"/></p>	<p>Tacha 5:</p>  <p>¿Cuántos quedan? <input type="text"/></p>
 <p>¿Cuántas son? <input type="text"/></p>	<p>Tacha 5:</p>  <p>¿Cuántos quedan? <input type="text"/></p>	 <p>¿Cuántos son? <input type="text"/></p>	<p>Tacha 7:</p>  <p>¿Cuántos quedan? <input type="text"/></p>
Calificación	Calificación	Calificación	Calificación




Lee con atención cada uno de los siguientes problemas razonados y resuélvelos correctamente.


1. Melisa tiene una colección de 8 estampas y Briana **tiene 7**. Si juntan sus colecciones, ¿cuántas estampas tendrán juntas? **(Remarca las estampas que tiene Briana y suma todas).**

 = estampas.

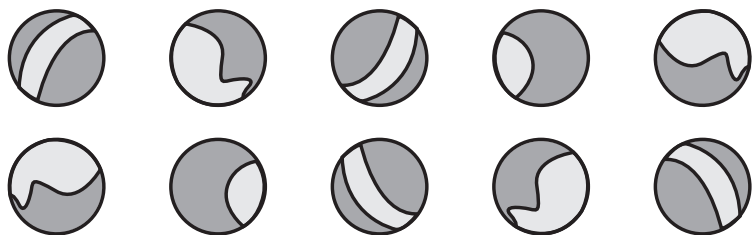


2. Eva ahorró 22 pesos. Si se encuentra **5 pesos** más en el recreo, ¿cuánto dinero tendrá ahora? **(Remarca las monedas que se encontró y suma todas).**

 = pesos.



3. Roberto jugaba con 10 canicas pero **se le rodaron 3** por una alcantarilla. ¿Cuántas canicas le quedaron? **(Tacha las canicas que perdió).**

 = canicas.

4. María llevaba 20 pesos para gastar en el puesto de la escuela. Si compró un lonche de 8 pesos, ¿cuánto dinero le quedó? **(Tacha las monedas que se gastó).**

 = pesos.



CLAVE DE RESPUESTAS

OCTUBRE - 1º

COMPRESIÓN LECTORA

1. A
2. C
3. C
4. A
5. B
6. C
7. C
8. B

ESCRITURA

Alejo el conejo sale a comer una zanahoria y el borrego Diego bebe agua.

La vaca Paca pasea por el corral mientras una ardilla se come una rica nuez.

Mi papá y yo jugamos en el parque con un balón de fútbol; mientras mi abuelo Abundio toca su trompeta y mi abuela Esther y mi mamá no paran de platicar y tejer bufandas.

OPERACIONES BÁSICAS

Suma	Resta	Suma	Resta
1. 9	1. 5	1. 8	1. 7
2. 7	2. 6	2. 5	2. 8
3. 9	3. 4	3. 2	3. 5
4. 4	4. 2	4. 6	4. 4

PROBLEMAS RAZONADOS

1. 15
2. 27
3. 7
4. 12