

Primer Bimestre 2

DATOS PERSONALES

Nombre del alumno (a)

No. de lista

Grupo

Fecha

Nombre del maestro (a)

Materia o asignatura	Número de reactivos	Aciertos obtenidos	Evaluación
Español	25		
Matemáticas	25		
Exploración de la Naturaleza y la Sociedad	20		
Formación Cívica y Ética	10		
Total	80		
	Promedio		



Nombre:

Grupo:

1. (25) Resuelve cada planteamiento y contesta en el cuadro de respuestas.

► **Escribe** los datos que se te piden a continuación.



1 2 Escribe tus respuestas.

Mi nombre es:

Tengo años.

► **Escribe** lo que te gusta hacer en la escuela.



3 Completa la respuesta.

En la escuela me gusta...

► **Escribe** los nombres del municipio y del estado donde vives.



4 Escribe tu respuesta.

Yo vivo en el municipio de:

en el estado de:

► **Escribe** un nombre que **inicie** con la misma letra que el tuyo y uno que **termine** igual que el tuyo.

5 6 Escribe tus respuestas.

► **Circula** el sustantivo de la siguiente oración. Y escríbelo en el cuadro de respuestas.

La mariposa vuela muy bajito.

7 Escribe tu respuesta.

► **Elige** la palabra para completar la definición siguiente y escríbela.

sustantivos

verbos

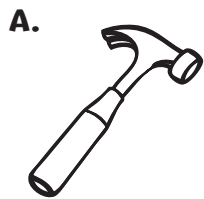
pronombres

adjetivos

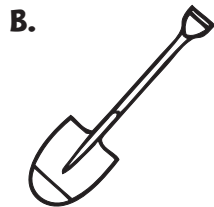
8 Completa la respuesta.

Para describir a una persona, animal u objeto se usan los...


► **Fíjate** en el ejemplo y escribe dos palabras que rimen con las siguientes imágenes.



martillo



pala



toro


9 10 Escribe tus respuestas.

A. pasillo

B. -----

C. -----

► **Elige** entre las opciones un **adjetivo** que describa cada uno de los siguientes dibujos.



11 12 Escribe tus respuestas.

enorme

morado

brillante

pequeño

A. -----

B. -----

► **Lee** las oraciones y contesta las preguntas de la derecha.



Los niños juegan al fútbol.



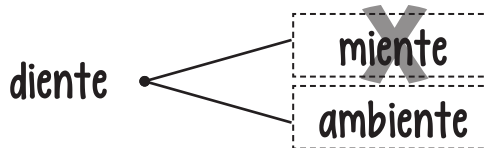
Una enfermera inyecta al paciente.

13 14 Escribe tus respuestas.

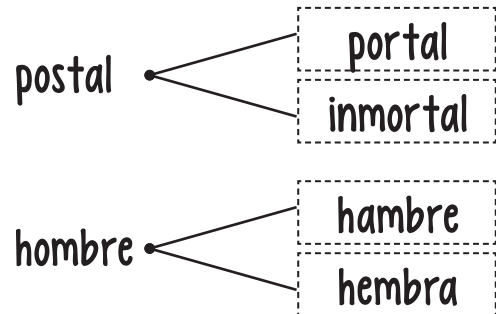
¿Quién inyecta?

¿Quiénes juegan?

► **Marca** con una **X** la palabra que sea diferente por una letra, de las de la izquierda. Observa el ejemplo.



15 16 Marca tus respuestas.



► **Encierra** la opción de lo que significa la palabra **solo** y **sólo** en cada enunciado.



17 18 Encierra tus respuestas.

Yo me voy solo a la escuela.

solamente

sin compañía

Iré, sólo si mis papás me dan permiso.

solamente

sin compañía



► **Completa** el nombre del tipo de texto que se describe a continuación.

Es una narración en la que generalmente intervienen animales y al final deja una enseñanza o moraleja.

19 Completa la respuesta.

f b u a

► **Completa** las palabras de acuerdo con cada ilustración.




20 21 Completa las respuestas.

• La primera es una hormi porque es pequeña.

• La segunda es una hormi porque es grande.

► De acuerdo con la fábula de "La Cigarra y la Hormiga" que aparece en tu libro de lecturas, esta frase significa que la Hormiga....



La hormiga, muy diligente, acarrea provisiones a su hormiguero.

22 Rellena el correcto.

- A** muy atenta, siempre ayuda a los demás.
- B** muy trabajadora, lleva alimentos a su casa.
- C** muy limpia, siempre tiene orden en su hormiguero.

► Lee la siguiente oración y escribe el número de palabras que tiene.

La niña fue al tianguis y vio a un señor que vendía máscaras.

23 Escribe tu respuesta.

Tiene palabras.

► Escoge dos verbos que completen la siguiente oración.



llegará
llegó
lavarse
lavó

24 25 Escribe tus respuestas.

Gerardo _____ de la escuela y se _____ las manos para comer.

Nombre:

Grupo:

1. (25) Resuelve cada planteamiento y contesta en el cuadro de respuestas.

► **Escribe** los precios del juguete más barato y del más caro.



\$175

\$195



\$140

\$50



1 2 Escribe tus respuestas.

El más barato cuesta:

El más caro vale:

► **¿Cuál** es la diferencia entre los precios del carrito y el del oso?

3 Escribe tu respuesta.


\$

► **Carlitos** tiene \$70 y quiere comprar el oso, ¿cuánto le falta?

4 Escribe tu respuesta.

\$


► **Lee** lo que dice Regina y adivina el número oculto de su tarjeta.



“Es un número par que va entre 20 y 30 y termina en 8”

5 Escribe la respuesta.

► **¿Cuántas** decenas de canicas se pueden formar y cuántas sobran?



6 7 **Escribe** tus respuestas.

Se forman decenas
y sobran canicas.

► **El** número que representa la edad del abuelito de Eduardo está entre 60 y 70, es impar y termina en 5. ¿Cuál es la edad del abuelito?



8 **Escribe** tu respuesta.

años.

► **Escribe** "mayor" o "menor", según corresponda en cada comparación.

• $135 + 10$ es **A** que $120 + 18$

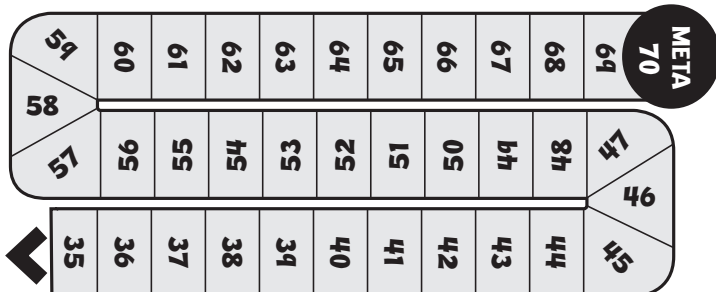
• $100 + 28$ es **B** que $140 + 45$

9 10 **Escribe** tus respuestas.

A

B

► **Andrea** está en la casilla 45. Si le tocan las siguientes tarjetas, ¿a cuál casilla llegará?




11 **Escribe** tu respuesta.




A la casilla

► Si Saúl estaba en la casilla 45 y llegó a la 38, ¿qué tarjetas de las siguientes le tocaron?



12 13 **Escribe** tus respuestas.


► **Elige** las fichas necesarias (sin repetir), para obtener las sumas de la derecha.



14 15 **Escribe** tus respuestas.

	+		=	10
	+		=	17

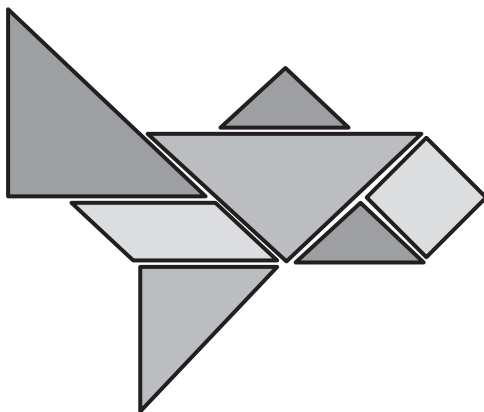
► **¿Cuál** fue la puntuación lograda con estas fichas?



16 **Escribe** tu respuesta.

..... puntos

► **Observa** el avión hecho con las piezas del Tangram y escribe qué figura geométrica forma cada parte.



17 18 19 **Escribe** tus respuestas.

- La popa o cola del avión es

un
grande.


- La proa o punta del avión es

un

- El ala de estribor (derecha)

es un
mediano.

► **Alejandra** preparó 20 vasitos de fruta para la merienda de su hija Sara. Si los invitados se comieron 14, ¿cuántos vasitos quedaron?



20 **Escribe** tu respuesta.

Quedaron vasitos.

► **Considerando** tu respuesta a la pregunta anterior, si llegan otras 9 personas a la merienda, ¿cuántos vasitos más deberá preparar Alejandra?

21 **Rellena** el  correcto.

- A** 2 vasitos
- B** 3 vasitos
- C** 4 vasitos

► **Reparte** las siguientes golosinas en las 6 bolsitas que dará Alejandra en la fiesta.

Chocolates	
Tamarindos	
Dulces	

22 23 24 25 **Completa.**

Cada bolsita debe incluir:

..... chocolates,

..... tamarindos y

..... dulces.

Y al final sobran 4...

.....

Nombre:

Grupo:

1. (20) Resuelve cada planteamiento y contesta en el cuadro de respuestas.

► **Escribe** lo que le ocurrió a Ramiro con su uniforme, ahora que transcurrió el tiempo y pasó al 2° grado escolar. Explica tu respuesta.




1 **Escribe** tu respuesta.

A Ramiro... ..

porque... ..

► **Es** el sentido del cuerpo humano que se daña, si se observa al sol por tiempo prolongado, sin protección.



2 **Rellena** el  correcto.

- A** tacto
- B** vista
- C** gusto

► **Daniela** se lastimó la lengua, la boca y la garganta por probar un alimento demasiado caliente. ¿Qué sentido se lastimó?



3 4 **Escribe** la letra correcta y el nombre del sentido.

► **Es** el sentido que utilizas para percibir los sonidos de lo que te rodea.



5 **Rellena** el  correcto.

- A** vista
- B** olfato
- C** oído

► **Observa** los dibujos y coloca la letra de cada grupo de alimentos en el Plato del Bien Comer donde corresponda.



6 7 8 **Escribe** los números en el orden correcto.

- Frutas y verduras
- Alimentos de origen animal
- Cereales y tubérculos

► **Además** de los alimentos nutritivos que debemos consumir es necesario beber...

9 **Rellena** el correcto.


- A** Agua mineral
- B** Agua simple potable
- C** Limonada casera

► **¿Por** qué es bueno para la salud hacer ejercicio o practicar un deporte de manera constante?

10 **Rellena** el correcto.

- A** ganar trofeos y medallas.
- B** mantenerte atento y activo.
- C** mantenerte saludable.


► **Señala** la acción que te ayuda a prevenir enfermedades diarreicas e infecciones respiratorias; luego completa el texto.



11 12 **Escribe** la letra correcta y completa.

constantemente las
_____ con agua y
jabón.

► Son dibujos que sirven para representar tu entorno, trazar recorridos y señalar lugares usando diferentes símbolos.



13 **Rellena** el correcto.

- A croquis
- B mapas
- C cuadrícula

► ¿Qué lugar está más alejado de la tiendita en el dibujo anterior?

14 **Rellena** el correcto.

- A el museo
- B el centro de salud
- C el banco

► ¿Qué significa el símbolo que se ilustra a continuación?



15 **Rellena** el correcto.

- A Cruz Roja
- B Aeropuerto
- C Bomberos

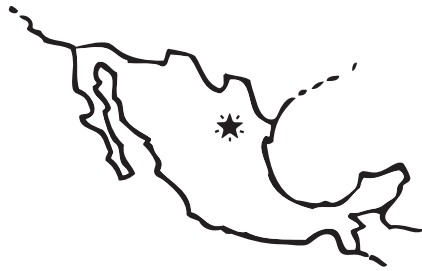
► Esta ambulancia se dirige al hospital, ¿por qué lugar acaba de pasar?



16 **Completa** la respuesta.

Acaba de pasar por la

► ¿En qué país se encuentra la localidad donde vives?




17 **Escribe** tu respuesta.

► Escribe el nombre de la entidad donde vives.


18 **Escribe** la respuesta.

► En este edificio histórico se enfrentaron los mexicanos al ejército de los Estados Unidos, porque ellos querían parte de nuestro territorio. ¿Cómo se le conoce a este lugar?



19 **Escribe** tu respuesta.

► ¿Cómo se les conoce a los seis cadetes jóvenes que defendieron a México en el edificio de la pregunta anterior?

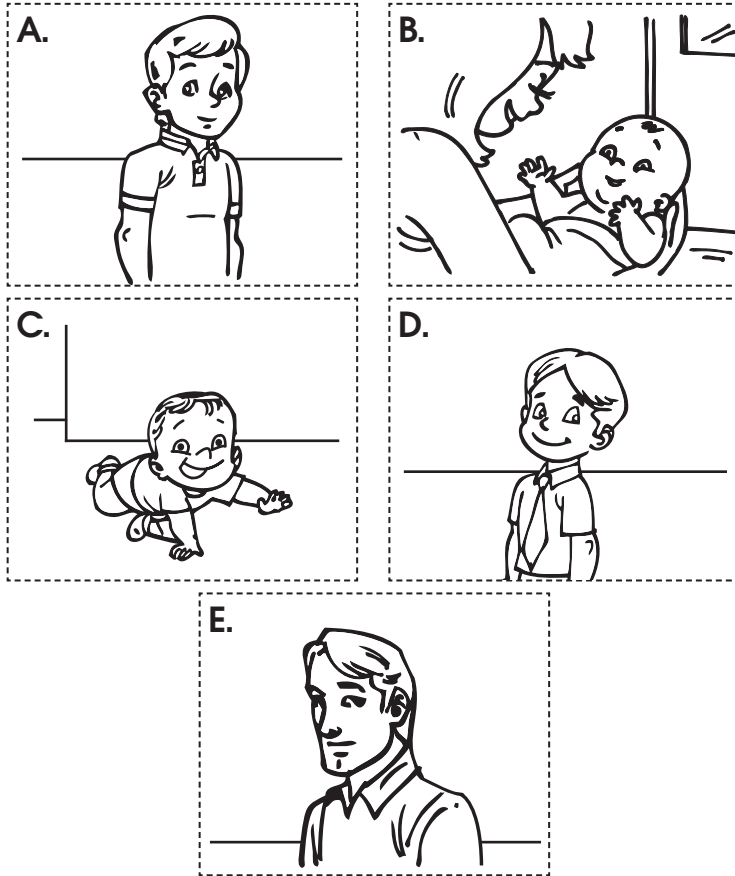


20 **Completa** la respuesta.

Los -----

1. (10) Resuelve cada planteamiento y contesta en el cuadro de respuestas.

► **Escribe** las letras según el orden progresivo en que una persona se va desarrollando.



1 2 3 **Escribe** las letras en el orden correcto.

1° B

2°

3°

4°


5° E

► **¿Cuál** imagen muestra una acción positiva que se debe aprender en la familia?



4 **Escribe** la letra correcta.

► El papá de Pedro constuye un cuarto en el patio de su casa para guardar la herramienta de su trabajo; Pedro y su mamá se acercan a ayudar para que termine más rápido. ¿Cuáles valores practica esta familia?



5 **Rellena** el  correcto.

- A tolerancia y justicia
- B unión y colaboración
- C discriminación y solidaridad


► Es un cuaderno o libreta en donde puedes ir escribiendo hechos importantes de tu vida.



6 **Rellena** el  correcto.

- A carta formal
- B diario del salón
- C diario personal

► ¿Cuál es el principal riesgo que tienen las personas que consumen alimentos en lugares establecidos en la calle?



7 **Rellena** el  correcto.

- A Enfermarse de las vías respiratorias
- B Enfermarse del estómago
- C Enfermarse del aparato locomotor (huesos, músculos, articulaciones).

► Debemos pensar bien en la certeza de los anuncios de la TV porque...

Cereal Súper Niño




CHOCO FORTEX

8 **Rellena** el  correcto.


- A** siempre es verdad lo que anuncian.
- B** siempre lo más barato es lo que no sirve.
- C** generalmente lo que anuncian es exagerado y engañan a los consumidores.

► ¿Cuál de estas imágenes ilustra la opción más nutritiva para comer durante el recreo?

A.



B.



C.



9 **Escribe** la letra correcta.



► ¿Cómo debemos comportarnos con las personas con discapacidad visual, auditiva y aquellas que requieren muletas o silla de ruedas para desplazarse?

A. Con rencor y malos tratos, pues no es nuestra obligación ayudarles.

B. Con respeto y aceptación, ya que tienen derechos como las demás.

C. Ignorándolas y que ellas se las arreglen por sí solas.

10 **Escribe** la letra correcta.





2°

CLAVE DE RESPUESTAS

Septiembre - Octubre

Español	Matemáticas	E. de la Naturaleza y la Sociedad	Formación Cívica y Ética
1. R.P.	1. \$50	1. R.P. (Ya no lo queda porque creció).	1. C
2. R.P.	2. \$195	2. (A) ● (C)	2. D
3. R.P.	3. \$90	3. B	3. A
4. R.P.	4. \$70	4. gusto	4. C
5. R.P.	5. 28	5. (A) (B) ●	5. B
6. R.P.	6. 7 decenas	6. l	6. (A) (B) ●
7. mariposa	7. 0 canicas	7. 3	7. (A) ● (C)
8. adjetivos	8. 65 años	8. 2	8. (A) (B) ●
9. R.P.	9. mayor	9. (A) ● (C)	9. A
10. R.P.	10. menor	10. (A) (B) ●	10. B
11. pequeño	11. 53	11. B	
12. enorme	12. 7	12. lavarse - manos	
13. Una enfermera	13. signo de (-)	13. ● (B) (C)	
14. Los niños	14. R.P.(7+3).	14. (A) (B) ●	
15. portal	15. R.P.(9+8).	15. (A) ● (C)	
16. hambre	16. 38 puntos	16. iglesia	
17. sin compañía	17. triángulo	17. México	
18. solamente	18. cuadrado	18. R.P.	
19. fábula	19. triángulo	19. Castillo de Chapultepec	
20. hormiguita	20. 6 vasitos	20. Niños héroes	
21. hormigota	21. (A) ● (C)		
22. (A) ● (C)	22. 3 chocolates		
23. 13 palabras	23. 2 tamarindos		
24. llegó	24. 5 dulces		
25. lavó	25. tamarindos		

* R.P. significa respuesta propia.