

# Primer Bimestre 1

## DATOS PERSONALES

Nombre del alumno (a)

No. de lista

Grupo

Fecha

Nombre del maestro (a)

Materia o asignatura	Número de reactivos	Aciertos obtenidos	Evaluación
Español	25		
Matemáticas	25		
Exploración de la Naturaleza y la Sociedad	20		
Formación Cívica y Ética	10		
Total	80		
	Promedio		



Nombre:

Grupo:

1. (25) Resuelve cada planteamiento y contesta en el cuadro de respuestas.

► **Escribe** tu nombre y los de dos de tus amigos, cuyos nombres empiecen con la misma letra que el tuyo.



**1 2 3 Escribe** la respuesta.

Yo me llamo:

---

Mis amigos se llaman:

---



---

► **¿Cuál** de estos tres nombres es el más largo?

Roberto

Margarita

José

**4 Escribe** tu respuesta.

► **¿Cuántas** letras tiene este nombre?

Leonardo

**5 Escribe** tu respuesta.

\_\_\_\_\_ letras.

► **De** acuerdo con el cuento "La orquesta de los animales" que aparece en tu libro de lecturas, ¿quién tocaba el trombón?

A.



El gatito

B.



El ratón


C.




El fiero león

**6 Escribe** la letra correcta.

► **Escribe** los nombres de los siguientes animales en orden alfabético.



mariposa



tortuga



cocodrilo



ardilla

7 8 9 **Escribe** tu respuesta.


1. ardilla

2. \_\_\_\_\_

3. \_\_\_\_\_

4. \_\_\_\_\_

► Observa estas imágenes y completa las palabras.




lón  
 apay

10 11 **Escribe** tus respuestas.

► Separa adecuadamente la siguiente oración.

Marianacompródulces.



12 **Escribe** tu respuesta.

\_\_\_\_\_

13 **Escribe** tu respuesta.

\_\_\_\_\_ letras.

► ¿Cuántas letras tiene la siguiente palabra?



sopa


14 15 **Escribe** tus respuestas.

► Escribe dos palabras que comiencen con la misma letra que la palabra anterior.

\_\_\_\_\_

\_\_\_\_\_

► Lee la siguiente adivinanza y elige la respuesta correcta.



A veces blanquita,  
a veces negrita,  
y siempre bolita.

16 Rellena el  correcto.

- A la luna
- B la uva
- C el jugo de uva

► ¿Cuáles son las letras iguales con las que terminan estas dos palabras?

**blanquita**

**bolita**

17 Escribe tu respuesta.

\_\_\_\_\_

► ¿Cuántas palabras tiene en total la siguiente adivinanza?

Chiquito, redondo,  
barrilito sin fondo  
¿qué es?


2



18 Escribe tu respuesta.

\_\_\_\_\_ palabras.

► Completa la siguiente oración con palabras que se escriban con la letra "q".



19 20 Escribe tus respuestas.

Doña \_\_\_\_\_ vende  
tamales de \_\_\_\_\_


► ¿Qué tipo de texto se ilustra a continuación?



21 **Rellena** el  correcto.

- A** un e-mail
- B** un recado
- C** una carta

► Completa la oración, según esta imagen.



22 **Escribe** tu respuesta.

Antonio toca la

-----

► Escribe dos palabras que rimen en la siguiente canción.

"LA ORQUESTA"

Acaba de llegar,  
pues una linda fiesta  
aquí tendrá lugar,  
escojan su pareja  
si gustan de bailar  
que ya los animales  
terminan de afinar.




23 **Escribe** tu respuesta.

-----

-----

► Escribe las acciones que realizan estos personajes.



24 25 **Escribe** tus respuestas.

-----


-----

Nombre:

Grupo:

### 1. (25) Resuelve cada planteamiento y contesta en el cuadro de respuestas.

► **¿Qué** hay más, ¿flores o abejas?



**1** Escribe tu respuesta.

-----

► **¿Cuántas** abejas se necesitan para que haya igual número de flores y abejas?

**2** Escribe tu respuesta.

----- abejas.


► **Escribe** el nombre correcto del número que tiene el globo.



**3** Escribe tu respuesta.

-----

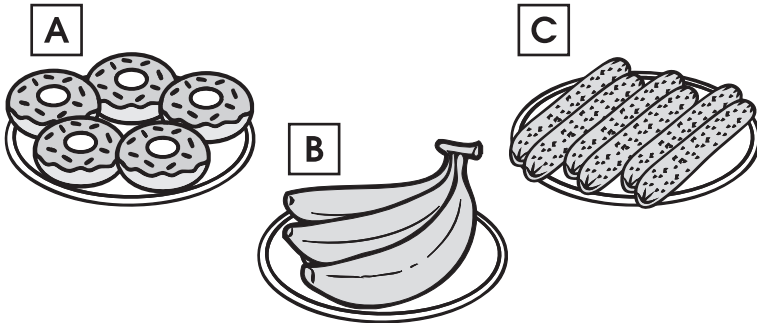
► **Dibuja** las zanahorias necesarias para que cada conejo tenga la suya.



**4** Dibuja tu respuesta.



► **Escribe** la cantidad de cosas que haya en cada recipiente.



**5 6 7 Completa.**

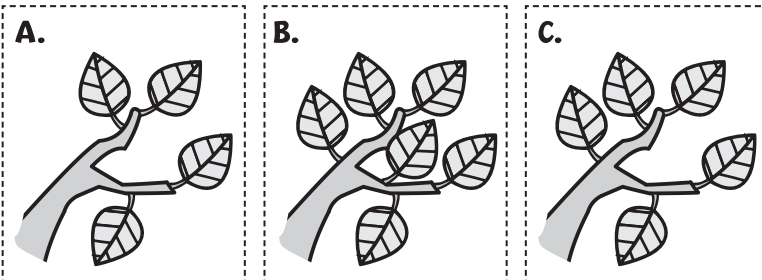
En el plato **A** hay

..... donas,

en el plato **B** ..... plátanos,

y en el plato **C** hay ..... salchichas.


► **¿Qué** rama tiene mayor cantidad de hojas?



**8 Escribe** la letra correcta.



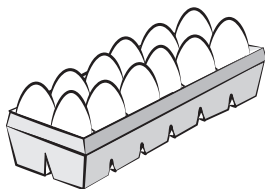
► **Si** el perrito tenía 8 huesitos y se comió 3, ¿cuántos le quedan?



**9 Escribe** tu respuesta.

..... huesos.

► **Carlos** quiere acomodar **20** huevos en la charola del refrigerador. Si solo caben 12, ¿cuántos huevos no podrá colocar?



**10 Escribe** tu respuesta.

..... huevos.



► ¿Qué número sigue en cada serie?

A. 4-5-?      B. 1-2-?

11 12 **Anota** tus respuestas.

A.       B.

► ¿Qué números completan esta serie?



13 **Rellena** el correcto.

- A 2,5 y 9
- B 2,5 y 7
- C 2,5 y 8

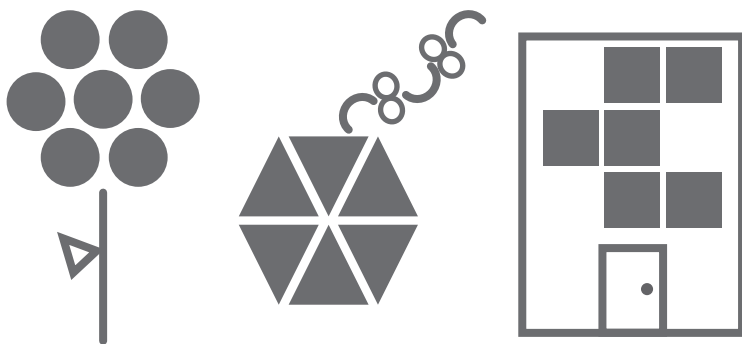
► ¿Qué números completan la siguiente serie?



14 **Rellena** el correcto.

- A 18 y 17
- B 18 y 14
- C 18 y 12

► Cuenta las figuras geométricas que conforman los siguientes dibujos y completa.



15 16 17 **Completa.**

- \* La flor está formada por ..... círculos.
- \* El papalote está formado por ..... triángulos.
- \* Las ventanas del edificio son ..... cuadrados.

► ¿En qué días de la semana caen las siguientes fechas?

SEPTIEMBRE						
Lu	Ma	Mi	Ju	Vi	Sa	Do
<input type="checkbox"/>	<input type="checkbox"/>	<input type="checkbox"/>	1	2	3	4
5	6	7	8	9	10	11
12	13	14	15	16	17	18
19	20	21	22	23	24	25
26	27	28	29	30	<input type="checkbox"/>	<input type="checkbox"/>

18 19 **Escribe** tus respuestas.

13 de septiembre:

24 de septiembre:



► El 16 de septiembre se celebra la Independencia de México. Según el calendario anterior, ¿en qué día de la semana se celebró este año?



20 **Escribe** tu respuesta.

► Marca con una **X** el día de la semana en que hacen los honores a la bandera en tu escuela y con una **✓** el día que tienes clase de Educación Física.

21 22 **Realiza** lo que se te pide.

Lunes	Martes	Miércoles
Jueves	Viernes	


► Escribe el día y el mes en que cumples años.



23 24 **Escribe** tu respuesta.

El ..... de

► Dibuja los gorritos que hagan falta para que cada niño tenga el suyo.



25 **Dibuja** tu respuesta.



Nombre:

Grupo:

**1. (20) Resuelve cada planteamiento y contesta en el cuadro de respuestas.**

► **Escribe** tu nombre y el número de personas que integran tu familia.



**1 2 Escribe** tus respuestas.

Mi nombre es:

En mi familia somos  personas.

► **Escribe** los nombres de las dos partes del cuerpo que usa Regina para nadar.



**3 4 Escribe** tus respuestas.

► **¿Qué** sentido utilizas para percibir las imágenes, colores y formas de las cosas que te rodean?



**5 Rellena** el  correcto.

- A** oído
- B** olfato
- C** vista

► **Para** sentir lo caliente, frío, suave o rasposo de los objetos necesitamos el sentido...



**6 Rellena** el  correcto.

- A** de la vista
- B** del tacto
- C** del gusto


► **Para** poder saborear los alimentos y saber si están salados, dulces o amargos, usamos el sentido...



7 **Rellena** el  correcto.

- A** de la vista
- B** del olfato
- C** del gusto

► **Los** alimentos como el arroz, el trigo y la avena pertenecen al grupo de los...



8 **Rellena** el  correcto.

- A** frutas y verduras
- B** cereales y tubérculos
- C** grasas y azúcares

► Es la parte del cuerpo que proteges de la luz directa, evitas tocar con las manos sucias y cuidas utilizando lentes.



9 **Marca** con una **x**.



► ¿Cuál de estas acciones debes realizar antes de ir a comer?



10 **Completa** la respuesta.

Antes de comer, siempre debo:

-----

-----


► ¿Qué hacen por las noches la mayoría de las personas?



11 **Rellena** el  correcto.

- A descansan
- B salen al recreo
- C hacen el desayuno

► ¿Qué hace Julio por las mañanas?



12 **Escribe** tu respuesta.

-----  
-----

► ¿En qué momento del día se necesita de luz artificial para iluminar las casas y las calles?




13 **Elige** y escribe tu respuesta.

-----

día      tarde      noche

► Son los lugares por los que NO pasa Paco para ir de su casa a la escuela de música.



14 **Rellena** el  correcto.

- A iglesia y tienda
- B cine y museo
- C tienda y parque


► ¿Por dónde deberá pasar Paco si quiere ir de la escuela de música al museo?

15 **Completa** la respuesta.

Deberá pasar por el:

-----


► ¿Cómo es el lugar donde vive Susy?



16 **Rellena** el  correcto.

- A Muy tranquilo, la gente usa bicicleta.
- B Hay edificios y calles muy transitadas.
- C Tiene muy cerca el mar.

► ¿Quién es este personaje que participó en la lucha por la Independencia de México?



17 **Rellena** el  correcto.

- A José M<sup>o</sup> Morelos
- B Miguel Hidalgo
- C Ignacio Allende

► ¿De qué país querían liberarse los que vivían en el territorio mexicano en 1810?



Francia



Inglaterra



España

18 **Anota** tu respuesta.

Querían liberarse de:

-----

► ¿En qué fecha inició en México la lucha por la Independencia?



19 **Completa** la respuesta.

----- de septiembre de 1810.

► En esta reunión que se organizó por motivo de la lucha de Independencia, aparece una mujer, ¿cómo se llamó?



20 **Rellena** el  correcto.

- A Josefina Allende
- B Juliana Hidalgo
- C Josefa Ortiz de Domínguez

1. (10) Resuelve cada planteamiento y contesta en el cuadro de respuestas.

► Los datos personales como nombre, domicilio y edad, nos dan una...



1 Rellena el correcto.

- A particularidad
- B identidad
- C soledad

► Es lo que debes recordar si se presenta una situación como esta: **alguien que no conoces te pregunta tus datos personales.**



2 Rellena el correcto.

- A Solo se deben dar datos a personas que traigan su credencial para votar.
- B Que el hermano mayor se encargue de dárselos.
- C Nunca se deben dar datos personales a desconocidos.

► Documento oficial que contiene los nombres de cada persona, los de sus padres y abuelos.



3 Rellena el correcto.

- A Acta de nacimiento
- B Acta de bautismo
- C Cartilla de vacunación



► **Documento** en el que se registran las visitas médicas y las vacunas que se le aplican a cada persona.



4 **Rellena** el  correcto.

- A Pasaporte
- B Reporte de evaluación
- C Cartilla nacional de salud

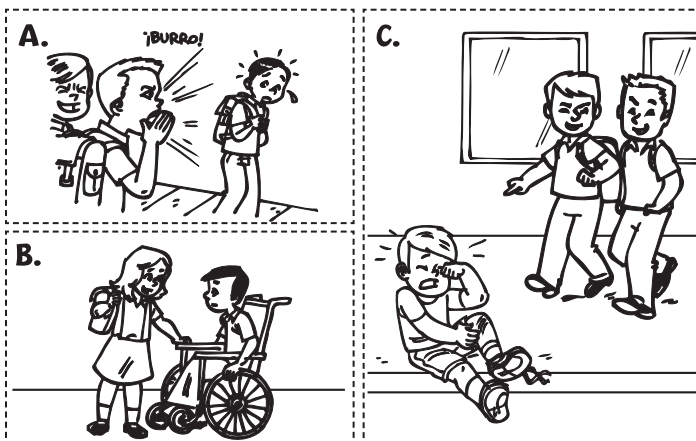
► **Aunque** todas las personas somos diferentes por el color de piel, de cabello, de ojos, estatura, peso, vestimenta y la forma de hablar, la característica común de todos estos individuos es que son...



5 **Rellena** el  correcto.

- A seres vivos
- B seres humanos
- C seres clonados

► **Imagen** en la que se muestra el respeto y la tolerancia de las personas...



6 **Escribe** la letra correcta.








► Dibuja a tu familia en el recuadro; luego escribe sobre las líneas quiénes viven contigo.

7 **Escribe** tu respuesta.

► Las siguientes medidas son para cuidar la salud menos una, ¿cuál es?



8 **Escribe** la letra correcta.

► De acuerdo con el Plato del Bien Comer, un platillo saludable debe incluir...

- A. Pollo, verduras, frijoles, tortillas y agua.
- B. Carne, frijoles y refresco embotellado.
- C. Frutas, sopa, pan y refresco de lata.

9 **Escribe** la letra correcta.

► ¿Por qué debemos revisar la fecha de caducidad de los alimentos industrializados?

- A. Nos ayuda a saber si será suficiente la cantidad de producto.
- B. Nos ayuda a saber si se encuentran en buen estado.
- C. Nos ayuda a conocer si es la mejor marca del mercado.

10 **Escribe** la letra correcta.



# 1º

## CLAVE DE RESPUESTAS

Septiembre - Octubre

Español	Matemáticas	E. de la Naturaleza y la Sociedad	Formación Cívica y Ética
1. R.P.	1. flores	1. R.P.	1. (A) ● (C)
2. R.P.	2. 2 abejas	2. R.P.	2. (A) (B) ●
3. R.P.	3. veinticinco	3. brazos	3. ● (B) (C)
4. Margarita	4. 4 zanahorias	4. piernas	4. (A) (B) ●
5. 8 letras	5. 5 donas	5. (A) (B) ●	5. (A) ● (C)
6. C	6. 3 plátanos	6. (A) ● (C)	6. B
7. cocodrilo	7. 6 salchichas	7. (A) (B) ●	7. R.P.
8. mariposa	8. B	8. (A) ● (C)	8. C
9. tortuga	9. 5 huesos	9. ojos	9. A
10. melón	10. 8 huevos	10. lavarme las manos	10. B
11. papaya	11. 6	11. ● (B) (C)	
12. Mariana com- pró dulces.	12. 3	12. R.P.(va a la escuela).	
13. 4 letras	13. (A) ● (C)	13. noche	
14. R.P.	14. (A) ● (C)	14. (A) ● (C)	
15. R.P.	15. 7 círculos	15. Por el cine	
16. (A) ● (C)	16. 6 triángulos	16. (A) ● (C)	
17. ita	17. 6 cuadrados	17. (A) ● (C)	
18. 7 palabras	18. martes	18. España	
19. Queta	19. sábado	19. 16 septiembre	
20. queso	20. viernes	20. (A) (B) ●	
21. (A) ● (C)	21. R.P. (lunes)		
22. guitarra	22. R.P.		
23. R.P.	23. R.P.		
24. bailar	24. R.P.		
25. cantar	25. R.P.		

\* R.P. significa respuesta propia.