

3



GUIA MENSUAL

Septiembre



NOMBRE:

GRUPO:


ESCUELA:




Preparación para
tu examen trimestral

Migdalia
TREVINO®

DERECHOS RESERVADOS © PROHIBIDA LA REPRODUCCIÓN TOTAL O PARCIAL DE ESTE MATERIAL.



3 Español Septiembre



Lee el siguiente texto y responde de la pregunta 1 a la 6.



La biblioteca escolar

La biblioteca escolar es un espacio educativo que cuenta con una colección organizada de diversos libros, revistas y enciclopedias entre otros materiales. Una biblioteca existe para proporcionar múltiples servicios: información, estudio, investigación, descubrimiento y lectura.

Una de las funciones de la biblioteca escolar es la de organizar sus recursos de tal modo que sean accesibles y utilizables; es decir, hacer posible su uso cuando se necesiten e impulsar actividades que fomenten la lectura como medio de entretenimiento y de información.

La enseñanza del uso de la biblioteca es, por cierto, parte de la responsabilidad de la escuela. Una de las maneras para hacerlo es establecer un reglamento en el cual se señalen las conductas que deben seguirse en cuanto a su uso; por ejemplo, algunas de las reglas que puede contener son: **mantener** en buen estado los libros, **regresar** los materiales a su lugar, **reponer** los libros en caso de extraviarlos, etc.

1. ¿Qué es una biblioteca?

2. ¿Para qué sirve una biblioteca?

3. ¿Cómo pueden estar clasificados los libros en una biblioteca escolar?

4. ¿Cuál es la función principal del reglamento de una biblioteca?

5. En el texto se mencionan algunas normas que puede contener el reglamento de la biblioteca. ¿Qué característica tienen?

6. ¿De quién es responsabilidad la enseñanza del uso de la biblioteca?



7-11. Completa este reglamento con los verbos correspondientes.

Guardar

Presentar

Acomodar

Llenar

Cuidar

REGLAMENTO DE LA BIBLIOTECA

- su credencial de usuario.
- los libros y materiales de la biblioteca.
- silencio en las mesas de lectura.
- los libros y materiales cuando terminen de usarlos.
- la ficha de préstamo a domicilio por cada libro solicitado.



12-13. Selecciona en cada trío de opciones la oración impersonal.

A. Mantengo los libros en buen estado.

A. Presentar la credencial de usuario.

B. Mantener los libros en buen estado.

B. Presento la credencial de usuario.

C. Tú y tus compañeros mantengan los libros en buen estado.

C. Laura presentó la credencial de usuario.

14. ¿Por qué se llaman oraciones impersonales?



15-21. Utiliza las letras para relacionar las columnas.

- Tipo de discurso en el que se reproducen los diálogos de los personajes.
- Son los signos utilizados para representar los diálogos de los personajes.
- En este tipo de discurso, un narrador está contando lo que alguien dijo.
- Signos que se usan para expresar asombro, alegría o enojo.
- Son los signos que se utilizan en las preguntas.
- Tipo de chistes que solo tienen sentido para cierto grupo de personas que comparten el significado de algunas palabras.
- Juego de palabras utilizado en los chistes en los que una palabra tiene doble significado.

A. indirecto

B. directo

C. guiones

D. locales

E. ambigüedad

F. admirativos

G.interrogativos



22-25. En los siguientes chistes se utilizó como recurso el doble sentido, es decir las palabras resaltadas tienen dos significados, escríbelos en las líneas.

Una señora llama por teléfono y pregunta:
 ¿Estoy hablando a la carnicería?
 No, es la zapatería.
 ¡Perdón, me equivoqué de **número**!
 No importa, tráigalo y se lo cambiamos.



Significado 1:

Significado 2:

Capitán, ¿me da su permiso para ir a ver a mi madre?
 ¿Con qué **objeto**?
 Con una bicicleta que me prestó un amigo.



Significado 1:

Significado 2:

¿Cuál es la **planta** que camina?
 ¡La planta de los pies!



Significado 1:


Significado 2:

¡Córrele Pancho, que mi **gato** ha matado a tu perro!
 Pero, ¿cómo va a matar tu gato a mi perro, si mi perro es un doberman de cincuenta kilos?
 ¡Pero es que mi gato es el del coche de mi padre. ¡Y le ha caído encima!


Significado 1:

Significado 2:






3 Matemáticas Septiembre



Lee el texto y contesta de la pregunta 1 a la 5.

Don Basilio tiene una huerta de naranjas y para surtir los pedidos los empaqueta en costales con 100 y bolsas de 10.

1-4. Escribe la cantidad de naranjas que resulte en cada pedido.



Pedido 1: 7 costales, 8 bolsas y 3 naranjas sueltas.

¿Cuántas naranjas venderá?

Pedido 2: 9 costales 6 bolsas y 6 naranjas sueltas.

¿Cuántas naranjas venderá?

Pedido 3: 4 costales, 3 bolsas y 5 naranjas sueltas.

¿Cuántas naranjas venderá?

Pedido 4: 3 costales 9 bolsas y 4 naranjas sueltas.

¿Cuántas naranjas venderá?

5. Ordena de menor a mayor las cantidades anteriores.

6-9. En cada una de las siguientes parejas tacha la que sea mayor.

1080 1800

700 + 9 800 + 90

543 500 + 30 + 4

792 729

10-15. Utiliza las letras para relacionar cada descomposición con su equivalencia.

4000 + 300 + 60 + 5

3000 + 500 + 70 + 5

6000 + 400 + 60 + 9

70 + 7 + 800 + 7000

5 centenas + 6 millares + 8 decenas + 5 unidades

6 decenas + 9 millares + 3 unidades + 4 centenas

A. 7877

B. 4365

C. 3575

D. 9463

E. 6469

F. 6585



16-17. Colorea en cada caso la resta cuyo resultado sea diferente a las demás.

$747 - 29$	$757 - 92$	$777 - 59$	$749 - 31$
$659 - 11$	$679 - 31$	$689 - 51$	$669 - 21$



Observa la siguiente tabla y contesta de la pregunta 18 a la 21.

Lista de precios	 Regla	\$ 12.00	  
	Sacapuntas	\$ 7.00	
	Libreta	\$ 48.00	
	Lápiz suelto	\$ 9.00	
	Caja con 10 lápices	\$ 80.00	
	Colores	\$ 35.00	

18. Analí compró 6 libretas en esta papelería. ¿Cuánto pagó en total?

19. ¿Cuánto se ahorra Hugo si compra la caja de lápices en lugar de 10 sueltos?

20. Luis compró 3 artículos en la papelería. Si pagó con un billete de \$200.00 y le dieron \$ 37.00 de cambio, ¿qué artículos compró?

21. La maestra necesita comprar 25 sacapuntas para sus alumnos. ¿Cuál es la operación que necesita hacer para saber cuánto va a pagar?



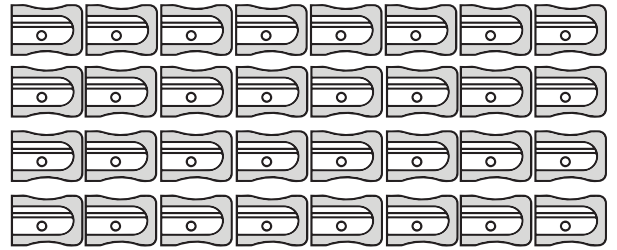
22-25. Resuelve estos problemas.

22. Pedro tenía 245 canicas y le regaló algunas a su primo Beto, ahora tiene 180, ¿cuántas canicas regaló a su primo?

23. En una tienda de ropa había 560 vestidos de fiesta. Si Eloísa compró 59 para su boutique, ¿cuántos vestidos quedaron en la tienda?

24. Escribe la operación que nos permite saber el total de sacapuntas que tiene la siguiente colección.

.....



25. Don Genaro fabrica juguetes de madera. Para un carrito usa 4 ruedas; para un camión 6 y para un tráiler 8. ¿Cuántas ruedas requiere si necesita hacer 30 carritos, 20 camiones y 10 tráilers?

.....



3 Ciencias Naturales Septiembre

1-10. Ordena las sílabas para encontrar las respuestas.

1. Nombre dado al conjunto que forma el sistema óseo y el sistema muscular.

mo-tor-co-lo

.....

2. Es la estructura más dura que le da soporte a nuestro cuerpo. Está formada por huesos.

que-to-le-es

.....

3. Nutriente que contienen algunos alimentos como la leche, queso, tortilla de maíz, berros, verdolagas, y que nos ayuda a mantener sanos nuestros huesos.

cio-cal

.....

4. Nombre dado a las partes donde se unen los huesos. Permiten realizar movimientos.

la-ar-nes-ti-cio-cu

.....

5. Fibras que recubren casi todo el esqueleto y se encogen y estiran con los movimientos.

los-cu-mús

.....

6. Para saber si una persona sufre una fractura al caerse es necesario tomar una...

a-dio-fí-gra-ra

.....

7. Sirven para unir un hueso con otro y son como ligas muy resistentes.

men-li-tos-ga

.....

8. Sistema que coordina nuestros movimientos, regula la percepción y las respuestas de nuestros órganos de los sentidos.

vio-so-ner

9. Órgano encargado de bombear la sangre a todo el cuerpo.


zón-ra-co

10. ¿Cuál es el primer paso de la digestión?

ti-car-mas



11-12. Escribe voluntario o involuntario, según sea el movimiento que se ilustra.



voluntario



13-17. Encierra la respuesta correcta.

13. Cantidad de huesos que tiene el esqueleto del cuerpo humano adulto.

A. 190

B. 200

C. 206

14. ¿Qué sucede cuando un músculo se estira?

A. Se relaja

B. Se contrae

C. Se encoge

15. ¿De dónde obtiene nuestro cuerpo los nutrimentos que necesita para desarrollarse?

A. Del agua

B. De los alimentos

C. Del aire

16. Órgano donde los alimentos, gracias a los jugos gástricos y otras sustancias, se convierten en una masa, para después pasar al intestino delgado.

A. Estómago

B. Páncreas

C. Hígado

17. Los nutrimentos que nuestro organismo necesita se obtienen gracias al proceso de la digestión, trabajo realizado por el aparato digestivo. ¿Cuál es el vehículo que transporta estos nutrimentos a todo el cuerpo?

A. Los nervios periféricos

B. Las glándulas salivales

C. El torrente sanguíneo

18. Si estás en el equipo de fútbol de la escuela, ¿qué recomendaciones debes seguir para evitar lesiones? Escribe tres.

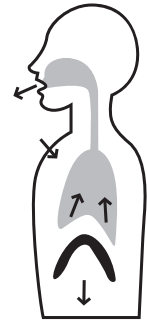
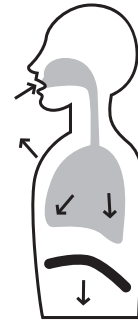
•

•

•

 **19-20. Completa cada texto con las siguientes palabras.**

- oxígeno
- exhalación
- inhalación
- dióxido de carbono



La _____ consiste en introducir _____ a los pulmones.

Durante la _____ el organismo expulsa una sustancia llamada _____


_____.



3

La Entidad Donde Vivo

Septiembre



 **1-10. Observa atentamente el mapa y contesta o completa, según corresponda las siguientes preguntas.**



1. El nombre oficial de nuestro país es

2. En México hay _____ entidades federativas.


3. Es el símbolo que está en la parte superior derecha y que indica los puntos cardinales:

4. Nombre del país con el cual limita México al norte.



5. Colorea la entidad donde vives en el mapa y escribe su nombre.

6. ¿Cuál es el nombre de la capital del estado donde vives?



7. Escribe el nombre de la capital de nuestro país.

8. Es el nombre de uno de los ríos de la entidad donde vives.



9. Una presa importante en mi entidad es...



10. Es el nombre de un cerro o montaña de tu entidad.



11-15. Dibuja la silueta de tu entidad y escribe sus límites.

	Nombre: _____
	LÍMITES:
	Al norte: _____
	Al sur: _____
	Al oriente / este: _____
	Al Poniente / oeste: _____



16-20. Encierra la respuesta correcta.



16. ¿En cuántos municipios está dividido el territorio de tu entidad?

- A.** 38 municipios **B.** 43 municipios **C.** 51 municipios **D.** 58 municipios

17. ¿Cómo se llama al tipo de población que vive en las ciudades?

- A.** rural **B.** urbana **C.** moderna **D.** civilizada

18. Las principales actividades económicas que realizan las personas de una localidad rural son...


- A.** fabricación de autos. **B.** agricultura y ganadería. **C.** construcción de edificios. **D.** industria y comercio.

19. ¿En qué trabajan principalmente las personas que viven en localidades urbanas?

- A.** fabricación de autos. **B.** agricultura y ganadería. **C.** construcción de edificios. **D.** industria y comercio.


20. Actividades económicas importantes de tu entidad.

- A.** Producción lechera, producción minera [carbón]. **B.** Producción de naranja e industria cervecera y vidriera. **C.** Industria minera [cobre y fluorita] y fabricación de automóviles. **D.** Refinerías de petróleo e industria pesquera.



3 Formación Cívica y Ética

Septiembre



1-5 Completa el texto con las palabras del recuadro.

- **convivencia** • **respetar** • **persona** • **única** • **identidad**

Las características de cada _____ le dan _____ y la hacen _____.

Valorar y _____ lo que caracteriza a cada persona fortalece la _____

en la sociedad.

 **6-10. Utiliza las letras para relacionar las columnas escribiendo en el círculo la letra correspondiente.**



En tu familia recibes cariño, valores y...



Debemos respetar las normas de vida en común, para ser parte de un...



En la escuela recibes respeto, orientación y...



Cada uno necesita de los demás para poder...



Cuidarte y procurar tu buen desarrollo es obligación de tu familia, la escuela y la...

A

grupo.

B

compañerismo.

C

protección.

D

sociedad.

E

desarrollarse.




 **11-15. Completa las palabras para encontrar el derecho al que se hace referencia.**

11. El beneficio que da este derecho a los niños es tener acceso a los servicios médicos.

s _ l _ d

12. Es el derecho que garantiza a los niños tener una preparación académica.

e d _ c _ c i _ n



13. Con este derecho todos los niños tienen el beneficio a crecer y desarrollarse saludablemente.

a l _ m _ n t _ c i _ n

14. La diversión, el disfrutar de juegos y la convivencia con amigos, es el beneficio otorgado por este derecho.

r _ c r _ _ c i _ n

15. El beneficio de la protección de los niños a ser cuidado por los adultos es garantizado por este derecho.

p r _ t _ c c i _ n

