

1



GUIA MENSUAL

Septiembre



NOMBRE:

GRUPO:


ESCUELA:




Preparación para
tu examen trimestral

Migdalia
TREVINO®


DERECHOS RESERVADOS © PROHIBIDA LA REPRODUCCIÓN TOTAL O PARCIAL DE ESTE MATERIAL.



1 Español Septiembre



1 Ordena las tarjetas para saber cómo se llama esta niña.



⇒ Escribe tu respuesta.



2 ¿Cuál de estos nombres empieza con la misma letra que el nombre de la niña anterior?

Andrea



Sonia



Josefa

⇒ Contesta.

3 Escribe tu primer nombre y el número de letras que tenga.

Oziel
5 letras



⇒ Escribe tu respuesta.

4 - 6 Colorea las tres frutas que inicien con la misma letra que la palabra "papaya"; después escribe sus nombres sobre las líneas.



⇒ Escribe tus respuestas.


7 ¿Cómo se llama este tipo de formatos?

Hora	Lunes	Martes	Miércoles	Jueves	Viernes
8:00	Español	Español	Español	Español	Español
9:00	Matemáticas	Matemáticas	Matemáticas	Matemáticas	Matemáticas
10:00	R E C R E O				
10:30	Conocimiento del Medio	Conocimiento del Medio	Español	Español	Español
11:30	Educación Física	Artes	Inglés Educación Socioemocional	Inglés	Inglés

Contesta.



8 ¿Cuál es la clase con la que inician todos los días en el horario anterior?



Escribe tu respuesta.

9 ¿Qué día toca la clase de Educación Física en el horario anterior?




Contesta.

10 Es el nombre del lugar donde encuentras organizados algunos materiales como libros, revistas, enciclopedias, videos, entre otros.



Escribe tu respuesta.

11-13 Completa los nombres de los siguientes animales.



☞ Completa.

e _ ef _ _ te

_ ar _ _ osa

t _ g _ e

14 ¿Qué está escrito en este cartel?



- Poner atención al maestro.
- Guardar silencio durante la clase.
- Respetar a los compañeros.
- Mantener limpio el salón
- Depositar la ba _____ dentro del bo _____ .

☞ Contesta.

15-16 Completa las palabras que deben incluirse en la última frase del cartel anterior y escríbelas en las líneas de la derecha.



☞ Escribe tus respuestas.

17 ¿Qué es lo que debe hacer Pablo si quiere decir algo para participar en clase?




☞ Escribe tu respuesta.

18 Según los títulos, ¿de qué crees que hablan estos libros de la biblioteca?



Contesta.

19 ¿Qué información está leyendo Tomás en esta página del libro?



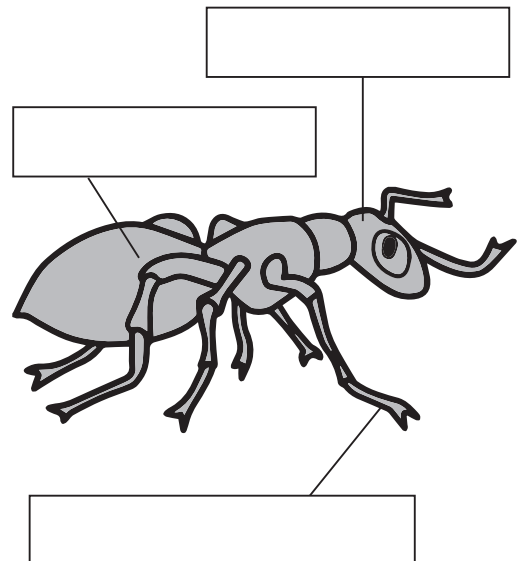
Marca con una X la respuesta correcta.


- A. ¿Qué comen las hormigas?
- B. ¿Dónde viven las hormigas?
- C. ¿Cómo nacen las hormigas?

20 Escribe los nombres de las partes de la hormiga, según corresponda.


- A cabeza
- B patas
- C abdomen

Contesta.






1 Matemáticas Septiembre




1 - 2 Cuenta los objetos de las siguientes colecciones y escribe las letras de las que tengan el mismo número de elementos.



A.



B.





C.

⇒ **Completa** la respuesta.

y

3 - 4 Observa las siguientes colecciones.




⇒ **Completa** la respuesta.

La colección mayor es la de las

y la colección que tiene menos elementos es la de las


5 ¿Qué hay más, flores o abejas?




⇒ **Escribe** aquí tu respuesta.




6 Dibuja las zanahorias necesarias para que cada conejo tenga la suya.



☞ **Dibuja** tu respuesta.



7 - 8 Escribe la cantidad de piezas de pan que hay en cada plato.



☞ **Completa.**

En el plato A hay donas, en el plato B hay conchas y en el C hay quequitos.


9 Dibuja los triángulos que le faltan a Raúl para que termine su tarea.




☞ **Dibuja** tu respuesta.



10-11 Observa la cantidad de cosas que tiene cada alumno y contesta.



Carmen



Omar

siete

Daniel

4


Juan

☞ **Contesta.**

¿Quién tiene más?

¿Quién tiene menos?

12 Completa la sucesión del ascensor que va bajando.




☞ **Escribe** tu respuesta.

10 9 7


6 3

2 1


13-14 Observa y cuenta los puntos que tiene cada ficha de dominó.



A



B




C

☞ **Completa.**

Las fichas que tienen 10 puntos son la _____ y la _____.

15-17 ¿Cuenta el total de peces que hay de cada color?



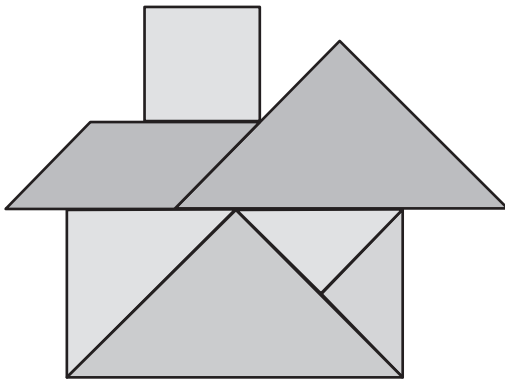
☞ **Completa.**

Hay ___ peces
negros en total.

Hay ___ peces
blancos en total.

Hay ___ peces
grises en total.


18 Observa la casita y cuenta los triángulos grandes que tiene.



☞ **Escribe** aquí tu respuesta.

Hay triángulos
grandes en la casita.

19-20 Según los puntos que cayeron en el dado, ¿a dónde llegarán estos animalitos?




☞ **Escribe** tu respuesta.

La ranita llegará al

.


El grillito llegará al

.



1 Conocimiento del Medio

Septiembre



1 - 2 Observa las ilustraciones y completa los textos, según corresponda.



☞ **Contesta.**

A. Es mi responsabilidad nunca faltar a clases y llegar _____

B. Es mi responsabilidad hacer la _____

3 Selecciona la opción que consideres que es mejor.


Lupita ha llegado tarde a la escuela toda la semana.

- A. Ella debe quedarse callada, aunque la regañen.
- B. Ella debe explicarle a la maestra que su mamá está hospitalizada.
- C. Ella debe decir una mentira.


☞ **Escribe** tu respuesta.



4 - 5 Observa las imágenes y selecciona las que muestren acciones que no debes realizar en el salón de clases.



A.



B.



C.

☞ **Escribe** tus respuestas.

_____ y _____

6 - 7 Completa estas otras reglas que debes respetar en tu salón de clases.

A. Para solicitar la _____? debo levantar la mano.

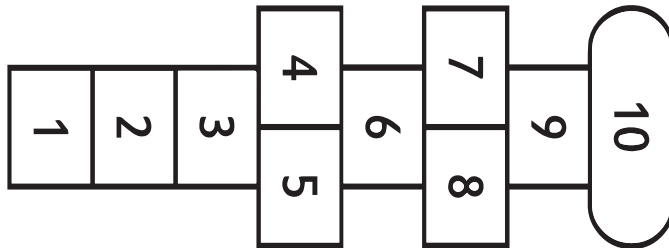
B. Para ir al baño debo pedir _____.

☞ **Escribe** tus respuestas.

A. _____

B. _____

8 Escribe una regla para el siguiente juego llamado "Avión".



☞ **Escribe** tu respuesta.

9 - 11 Escribe el nombre de las partes del cuerpo que están señaladas.



☞ **Escribe** tus respuestas.

12 - 14 ¿Cómo te identificas?

Yo soy niño, tengo 6 años y me llamo Pedro



☞ **Escribe** tu respuesta.

Yo soy _____

tengo _____ años

y me llamo _____

15-16 Describe cómo eres tú.



☞ **Escribe** tus respuestas.

El color de mi piel es

y tengo el pelo

17 Es el documento oficial que te da identidad y contiene tus datos como lugar y fecha de nacimiento, nombres de tus padres y abuelos.



☞ **Escribe** la respuesta.

18-20 Dibuja la carita que represente tu sentir en cada una de estas situaciones.




A. Mi mejor amigo se enfermó.

B. Me hicieron una fiesta de cumpleaños.


C. Me regañaron injustamente.

☞ **Dibuja** aquí tus respuestas.

A.



B.



C.

