


3

  
**GUIA**  
**MENSUAL**

Octubre



NOMBRE:

GRUPO:

ESCUELA:




Preparación para  
tu examen trimestral

*Migdalia*  
TREVINO®

DERECHOS RESERVADOS © PROHIBIDA LA REPRODUCCIÓN TOTAL O PARCIAL DE ESTE MATERIAL.



# 3 Español Octubre



 1-10. Observa la ilustración y contesta las preguntas.

DATOS

Nombre: \_\_\_\_\_

Dirección: \_\_\_\_\_

C.P. \_\_\_\_\_

Teléfonos: \_\_\_\_\_ Oficina: \_\_\_\_\_

Casa: \_\_\_\_\_

Celular: \_\_\_\_\_

Cumpleaños: \_\_\_\_\_

E-mail: \_\_\_\_\_

Nombre: \_\_\_\_\_

Dirección: \_\_\_\_\_

C.P. \_\_\_\_\_

Teléfonos: \_\_\_\_\_ Oficina: \_\_\_\_\_

Casa: \_\_\_\_\_

Celular: \_\_\_\_\_

Cumpleaños: \_\_\_\_\_

E-mail: \_\_\_\_\_

A  
B  
C  
D  
E  
F  
G  
H I J  
K L  
M N  
O P  
Q R  
S T  
U V  
W X  
Y Z

DATOS

Nombre: \_\_\_\_\_

Dirección: \_\_\_\_\_

C.P. \_\_\_\_\_

Teléfonos: \_\_\_\_\_

Casa: \_\_\_\_\_

Celular: \_\_\_\_\_ Oficina: \_\_\_\_\_

Cumpleaños: \_\_\_\_\_

E-mail: \_\_\_\_\_

Nombre: \_\_\_\_\_

Dirección: \_\_\_\_\_

C.P. \_\_\_\_\_

Teléfonos: \_\_\_\_\_

Casa: \_\_\_\_\_

Celular: \_\_\_\_\_ Oficina: \_\_\_\_\_

Cumpleaños: \_\_\_\_\_

E-mail: \_\_\_\_\_

A  
B  
C  
D  
E  
F  
G  
H I J  
K L  
M N  
O P  
Q R  
S T  
U V  
W X  
Y Z

1. ¿Qué tipo de formato es el anterior?

\_\_\_\_\_

2. ¿Para qué sirve?

\_\_\_\_\_

3. ¿Cómo se recomienda que se organicen los datos de las personas?

\_\_\_\_\_

4. ¿Por qué es bueno organizar los nombres de esta forma?

\_\_\_\_\_

5. Según el formato anterior, ¿qué teléfonos deben escribirse?

\_\_\_\_\_

6. ¿Qué datos del directorio te servirían si deseas enviar una carta postal?

\_\_\_\_\_

7. Si no se pudieran comunicar con una persona por teléfono, ¿qué otro dato sería útil para localizarla?

\_\_\_\_\_

8. Si deseas enviar una tarjeta de felicitación o un regalo, ¿qué dato del directorio consultarías?

---

9. ¿Qué números de emergencia debes incluir y tener a la mano en tu directorio?

---

10. ¿Cómo se conocen los directorios personales y que tienen la misma función que un directorio telefónico?

---



**11-15. Encierra la respuesta correcta.**

11. Si necesitas saber el número telefónico de un doctor, ¿cuál de estos directorios consultarías?

**A. Familiar**

**B. Personal**

**C. Médico**

12. En un directorio aparece escrito un nombre así: laura torres morales. ¿Por qué está mal escrito?

**A. Porque debe ir al inicio de la lista.**

**B. Porque es nombre propio y la letra inicial debe ir en mayúscula.**

**C. Porque debe ir al final de la lista.**

13. El director de la escuela, preguntó: ¿Por qué es importante elaborar el directorio? ¿Quién respondió correctamente?

**A. Mario: Porque así tenemos los datos de todos y nos podemos comunicar en caso de emergencia.**

**B. Lourdes: Porque así nos conocemos mejor.**

**C. Carlos: Para escribir una libreta.**

14. ¿A qué número marcarías si un compañero tuyo se accidenta y sus papás no están en casa?

**A. Bomberos**

**B. Emergencias médicas**

**C. Policía**

15. En caso de que no puedas asistir a clases por algún motivo, el directorio telefónico de los compañeros de grupo te puede ser útil para...


**A. copiar las respuestas de los exámenes.**

**B. llamar a las instituciones de emergencias médicas.**

**C. llamarles para solicitarles la tarea.**



**16-20. Escribe frente a cada abreviatura su significado.**



<b>Col.</b>	
<b>Ave.</b>	
<b>C. P.</b>	
<b>Tel.</b>	
<b>Ing.</b>	



**21-25. Organiza alfabéticamente los siguientes datos empezando del 1 al 5, considera el primer nombre.**

María Angélica Lara Moreno  
Ave. Revolución No. 67, Col. Centro  
Tel. 8657-4893

Rebeca Rosales Solís  
Cerro de la Silla No. 45, Col. Libertad  
Tel. 5543-6789

Laura Cortés Mares  
Calle Piña No. 54, Fracc. Margaritas  
Tel. 1232-4568


Blanca Nohemí Porras Elizondo  
López Mateos No. 67, Col. Del Paseo  
Tel. 5657-7890

Diana Armandina León Ovalle  
Privada Nogales No. 123, Col. Los Cedros  
Tel. 1234-5678






# 3 Matemáticas Octubre



**1-5. Observa los horarios del paseo en lancha por la laguna del Carpintero en Tampico y contesta las preguntas.**

Lanchas	
La nutria	La jaiba
Horarios de salida	
8:00	8:30
8:40	8:50
9:20	9:10
10:00	9:30
10:40	9:50
11:20	10:10



1. Sonia llegó a las 8:15 y quiere partir lo más rápido posible, ¿con cuál de las dos opciones le conviene tomar el paseo?

\_\_\_\_\_

2. ¿Cuánto tiempo tuvo que esperar Sonia hasta tomar su lancha para realizar el paseo?

\_\_\_\_\_

3. Javier llegó al puerto de embarque a las 8:45, ¿cuánto tiempo llegó después que Sonia?

\_\_\_\_\_


4. Cada paseo en lancha dura 30 minutos, ¿a qué hora regresó Sonia si tomó la lancha a las 8:30?

\_\_\_\_\_

5. ¿Cada cuánto tiempo sale una lancha del dueño de "La Jaiba"?

\_\_\_\_\_

**6-10. Observa el proceso de elaboración de un balero y contesta las preguntas.**



6. ¿Cuánto tiempo transcurre desde que el artesano empieza a tornear el balero, hasta que empieza a pintarlo?

7. ¿Cuántos minutos pasan desde que el artesano empieza a tornear, hasta que está completamente terminado el balero?

8. ¿A qué hora inició el artesano a pintar el balero?

9. ¿A qué hora quedó el balero terminado?

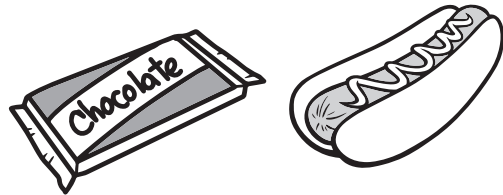
10. El artesano trabaja ocho horas diarias, y hace dos baleros cada hora, ¿cuántos baleros elabora en una semana, si trabaja de lunes a viernes?



11-15. Observa la lista de precios de la dulcería del cine y resuelve los problemas.

Producto	Palomitas	Refresco grande	Refresco chico	Cachuates	Chocolate	Nachos	Hot dog	Sandwich
Precio	\$ 45.00	\$ 35.00	\$ 20.00	\$ 22.00	\$ 18.00	\$ 40.00	\$ 30.00	\$ 25.00

11. ¿Cuánto se pagará por un sandwich y un refresco grande?



12. ¿Cuánto se pagará por un refresco grande y unas palomitas?

14. Marco desea comprar unos nachos y un refresco grande, si paga con 100 pesos, ¿cuánto le sobrará?

13. Luis compró un hot dog, un refresco chico y un chocolate. ¿Cuánto pagó?

15. ¿Cuánto le falta a Rosa si tiene 50 pesos y quiere comprar unos nachos y un refresco chico?



16-20. Observa la tabla y contesta las preguntas.

Animal	Peso en promedio (miles de kilogramos)	Promedio de vida (años)
Ballena gris	36	60
Ballena azul	130	90
Elefante marino	4	20
Cachalote	40	70
Tiburón ballena	21	100

16. ¿Cuál de los animales de la tabla es el más pesado?

\_\_\_\_\_

17. ¿Cuántos años en promedio puede llegar a vivir un cachalote?

\_\_\_\_\_

18. ¿Cuántos kilogramos pesa en promedio la ballena gris?


\_\_\_\_\_

19. ¿Cuál de los animales de la tabla puede llegar a vivir más años?

\_\_\_\_\_

20. ¿Cuál de los animales enlistados es el menos pesado?

\_\_\_\_\_



21-25. Completa la tabla con la siguiente información, luego resuelve los problemas.

**Papelería  
"El Lápiz Rojo"**

**Papelería  
"La Mochila Azul"**

Producto Papelería	Juego de geometría	Mochila	Colores	Sacapuntas	Libretas	Lápiz
"El Lápiz rojo"		\$ 72.00	\$ 24.00		\$ 32.00	
"La mochila azul"	\$ 22.00		\$ 28.00	\$ 11.00		\$ 4.00

21. ¿En qué papelería está más barata la mochila?

\_\_\_\_\_

22. ¿Cuánto se tendrá que pagar en la papelería "El lápiz rojo" por 3 cajas de colores?

\_\_\_\_\_

23. María necesita una libreta y un juego de geometría. ¿En cuál de las dos papelerías le conviene comprar?

\_\_\_\_\_

24. ¿Cuánto se pagará en la papelería "La mochila azul" por 3 libretas, un sacapuntas y un lápiz?

\_\_\_\_\_


25. ¿Si tuvieras que comprar 5 lápices y 5 sacapuntas, ¿en dónde convendría comprarlos?

\_\_\_\_\_



# 3 Ciencias Naturales

Octubre

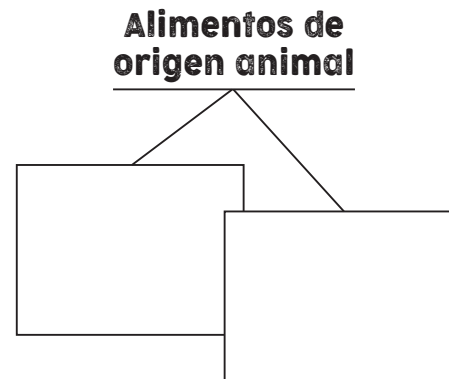
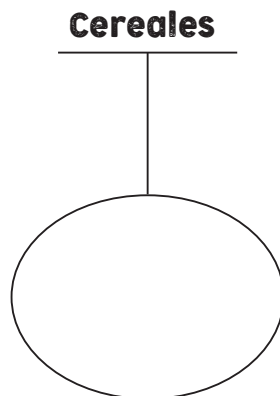
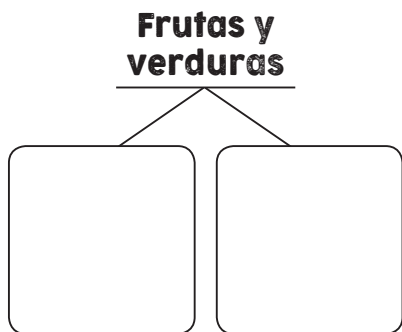


## 1-10. Consulta y contesta.

1. Es un esquema que ilustra los tres grupos de alimentos y recomendaciones para su consumo.
2. Es una guía informativa que muestra las bebidas saludables y la cantidad de líquido que se recomienda consumir cada día.
3. Elemento natural que ocupa un mayor porcentaje en el contenido de la Jarra del Buen Beber.
4. Es la variedad y cantidad de alimentos que consumimos cada día.
5. Es la característica de una dieta que contiene todos los nutrimentos indicados en el Plato de Bien Comer.
6. Son desórdenes alimentarios provocados por comer en exceso,.
7. Grupo de alimentos que nos proporciona energía.
8. Es el grupo de alimentos que nos proporciona principalmente fibra, vitaminas y minerales.
9. Son nutrientes que nos proporcionan principalmente las leguminosas y los alimentos de origen animal.
10. Son alimentos que debemos consumir en cantidades mínimas, pues contienen grandes cantidades de grasas y azúcares. Son llamados chatarra.



## 11-15. Dibuja ejemplos de alimentos de cada uno de estos grupos.







**16-20. Encierra la respuesta correcta.**

16. En caso de incendio, ¿a qué zona de tu escuela deben dirigirse todos los alumnos y maestros?

**A la puerta de salida**

**A un punto de reunión**

**A un salón**

17. La tarea de Magaly consistía en hacer una lista de situaciones de riesgo más comunes en el hogar. ¿Cuál de las siguientes no corresponde?

**Quemarse con la estufa**

**Cortarse con un cuchillo en la cocina**

**Sufrir una fractura al correr en la clase de Educación Física**

18. Grupos que han sido creados para prevenir y saber cómo actuar en caso que de que se presente un siniestro, ya sea en la escuela o en tu comunidad.

**Brigadas de seguridad**

**Brigadas militares**

**Brigadas de salud**

19. Etapa del Proyecto en la que se da a conocer a la comunidad la información obtenida a través de carteles o trípticos, entre otros.

**Planeación**

**Desarrollo**

**Comunicación**

20. Etapa del Proyecto en la que reflexionas sobre tu desempeño en el trabajo en equipo con el propósito de mejorar cada vez más.

**Comunicación**

**Evaluación**

**Desarrollo**



**1-6. Contesta las preguntas.**

- ¿Qué conforman las montañas, llanuras y mesetas de una entidad?
- Escribe dos regiones de tu entidad.
- Sus componentes son la temperatura, la humedad, los vientos y la presión atmosférica.
- Tipo de clima que predomina en el lugar donde vives.
- Nombre que recibe el clima que es caluroso y seco, pero tiene temperaturas templadas en las zonas altas y hay heladas en invierno.
- Región que se caracteriza por tener terrenos inclinados y a mayor altura sobre el nivel del mar, su suelo esta conformado principalmente por rocas calizas.



**7-14. Completa el siguiente esquema, según los datos de tu entidad.**

**Nombre**

**Capital**

**Nombre de tres municipios**

**Nombre con el que se le conoce a tu entidad por su paisaje o cultura**

**Número aproximado de habitantes**

**Nombre de un monumento histórico de tu entidad**

Kilómetros



**15-16. En el siguiente espacio dibuja el contorno de tu entidad, localiza las regiones en que se divide y escríbelas en las líneas.**

**Regiones**

---



---



---







---








---

 **17-20. Escribe “Sierra”, “Llanura” o “Altiplanicie”, según corresponda al lugar donde viven las plantas y animales que se ilustran.**

 <p data-bbox="250 510 768 590">•</p>	 <p data-bbox="915 510 1433 590">•</p>
 <p data-bbox="250 930 768 1010">•</p>	 <p data-bbox="915 930 1433 1010">•</p>

 **3 Formación Cívica y Ética** **Octubre** 

 **1-5. Utiliza las letras para relacionar las columnas.**

1.  Un indicador del bienestar y calidad de vida de una comunidad es la...
2.  El baño diario y el cepillado de dientes son dos hábitos de...
3.  Para que nuestro cuerpo esté sano debemos alimentarnos bien y hacer...
4.  Para prevenir enfermedades en los niños desde su corta edad se les debe aplicar...
5.  Nadie puede golpearte, pues estas acciones ponen en peligro tu...

**A. ejercicio**

**B. integridad**

**C. higiene**

**D. salud**

**E. vacunas**

 **6-10. Colorea el recuadro de la respuesta correcta.**

6. Los niños propusieron un menú para el convivio del salón, ¿cuál no es un menú sano?

A. Coctel de frutas

B. Frituras y refrescos

C. Pollo y arroz

7. José se enfermó, tiene fiebre y dolor de garganta. De las siguientes opciones, ¿cuál corresponde a los cuidados que debe seguir?

A. Tomar muchos líquidos y evitar corrientes de aire.

B. Tomar mucho sol para que la fiebre desaparezca.

C. No debe hacer nada especial; de seguro el malestar se le pasará.

8. ¿Cuál de las siguientes acciones puede poner en riesgo la salud?

A. Evitar alimentos o sustancias dañinas.

B. Que se lleven a vacunar a los niños.

C. Jugar a lanzar piedras al agua desde la orilla de un río en ausencia de un adulto.

9. Nuestro cuerpo es un sistema ordenado y en funcionamiento. ¿Cuál de las siguientes funciones no corresponde a las que realiza nuestro organismo?

A. Mimetismo

B. Respiración

C. Digestión

10. Acción en la que no es necesario avisarles a tus padres o algún familiar acerca del cuidado de tu salud.


A. Cuando te duele la cabeza.

B. Cuando de pronto no oyes o no ves bien.

C. Cuando se te olvidó acomodar tus libros.

 **11-13. Completa.**

Escribe tres maneras en que se transmite el virus de la influenza A (H1N1) a través de la saliva de una persona infectada a otra.



- \_\_\_\_\_
- \_\_\_\_\_
- \_\_\_\_\_

 **14-15. Identifica las dos formas de desinfectar el agua que se ilustran.**

\_\_\_\_\_



\_\_\_\_\_

