

GUIA
MENSUAL

Octubre



NOMBRE:

GRUPO:

ESCUELA:



Preparación para
tu examen trimestral

Migdalia
TREVINO®



1. (20). Realiza cada actividad conforme se te indique.

1 Lee con atención la descripción y características de los elefantes.


Elefantes

Los elefantes son animales grandes que pertenecen a los mamíferos vertebrados y tienen una larga vida de hasta 70 años.

Su principal y característico rasgo físico es su trompa, la que utiliza para respirar, alimentarse y levantar objetos.

Se pueden clasificar en tres especies: los africanos, los asiáticos y los africanos de la sabana.

Termina de dibujar el elefante.



2 Según la información anterior, además de los elefantes de África y de los que viven en la Sabana, ¿qué otra especie existe?



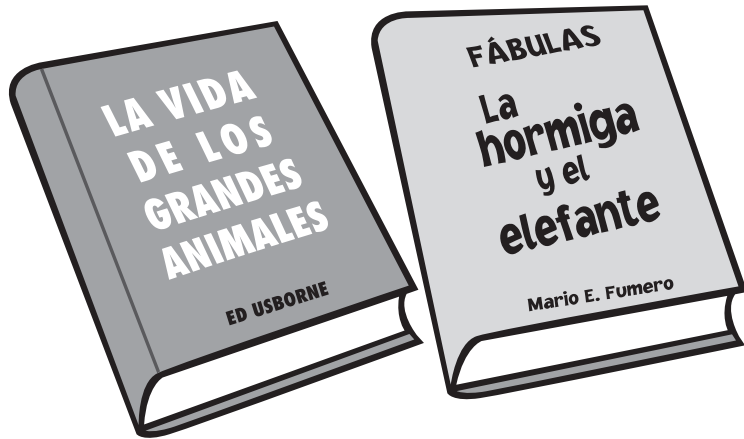
Contesta.

3 Son características que sobresalen en estos grandes animales.




Escribe dos características.

4 ¿Cuál libro elegirías para buscar información acerca de la alimentación de los elefantes?



Contesta.

5 - 7 Completa el cartel que un alumno utilizará para exponer su clase.



A. ¿Cómo se llama?

B. ¿Dónde vive?

C. ¿De qué se alimenta?


Escribe tus respuestas.

A. _____

B. _____

C. _____

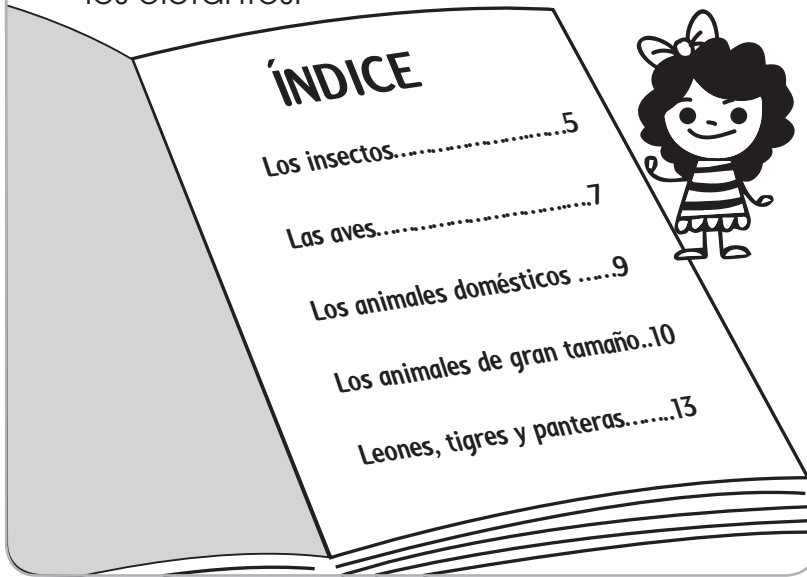
8 - 10 Escribe las partes señaladas del elefante.



Escribe.



11 Elige el tema y la página donde podrás encontrar información sobre el tema de los elefantes.



👉 **Escribe** el nombre y la página.


• _____

12 De los siguientes nombres, elige el más largo.



👉 **Escribe.**


13 - 14 Piensa en dos nombres de personas que empiecen con las mismas dos primeras letras de "elefante".



👉 **Escribe.**

• _____
• _____

15-17 Identifica el par de nombres que inicien con las mismas letras.




Escribe.

con

con

con

18-19 Lee la siguiente estrofa, e identifica las palabras que riman.



Sol solecito
caliéntame un
poquito.



Por hoy,
por mañana
por toda
la semana.

Contesta.


- Solecito rima con

- Mañana rima con

20 ¿Cuáles son las letras similares con las que terminan los nombres de estos objetos?




Escribe.




1 Matemáticas

Octubre




1. (20). Realiza cada actividad conforme se te indique.

1 - 2 Observa los precios de los productos y piensa cuántas monedas necesitarás exactamente para comprar lo siguiente.




Colorea las monedas necesarias.




3 - 6 ¿Cuáles son los números que faltan para completar la siguiente serie?



Contesta.




7 ¿Cuántas flores faltan por acomodar en los centros de mesas, para que todos tengan tres flores cada uno?



Escribe.

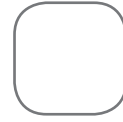


8 Si esta cerca tiene 12 postes y José ha pintado solo 4, ¿cuántos postes le faltan por pintar?



☞ **Contesta.**

Le faltan por pintar



postes.

9 - 11 Luis y sus amigos quieren llenar un álbum con 20 estampitas. ¿Cuántas le faltan a cada uno de los niños para completarlo?



☞ **Completa.**

A Luis le faltan _____

A Juan le faltan _____

A Pedro le faltan _____

12 Observa la imagen, interprétala y completa el planteamiento.



☞ **Completa.**

En la pecera hay _____


peces, pero llegó

Don Benito y sacó _____,

ahora solo quedan _____

peces en la pecera.





13 Observa la imagen, interprétala y completa el planteamiento.



Completa.

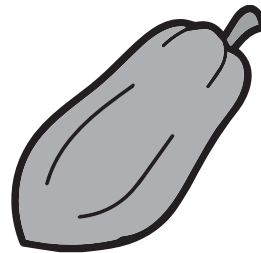
En el florero hay _____ flores,
pero llegó Don Benito y puso
_____ más, ahora hay _____
flores en el florero.


14-16 Escribe los números correspondientes, según el registro de marcas que tiene cada fruta en la tabla.

Fruta	Marca
 Mango	
 Piña	
 Plátano	
 Papaya	

Cuenta y escribe.








17-18 Contesta, según la información de la tabla anterior.

¿Cuál es la fruta con mayor preferencia?

¿Cuál es la fruta que menos gusta?

☞ **Escribe** tus respuestas.

19 Selecciona la opción que contenga el orden correcto de las actividades ilustradas.



☞ **Marca** con una **X** la respuesta correcta.

3, 2, 4, 1

4, 2, 1, 3

4, 1, 3, 2

20 Según el horario de actividades, ¿qué hace Antonio los martes y los jueves?


LUNES	MARTES	MIÉRCOLES	JUEVES	VIERNES

☞ **Marca** con una **X** la respuesta correcta.

Juega fútbol.


Toma clases de guitarra.

Toma clases de pintura.



1 Conocimiento del Medio

Octubre



1. (20). Realiza cada actividad conforme se te indique.


1 Es el documento que te da identidad y ciudadanía. Ahí está escrito tu nombre completo, el de tus padres y abuelos, y otros datos más.

- A. Cartilla de salud
- B. Acta de nacimiento
- C. Boleta de calificaciones

☞ **Contesta.**

• _____

2 Son dos datos personales importantes.



☞ **Marca** con una **X** tus respuestas.

- La edad.
- El nombre de tu tío.
- El nombre de tu escuela.
- El nombre propio.

3 - 4 Escribe correctamente tu nombre completo y la fecha de nacimiento.



☞ **Completa.**

Mi nombre completo es:

La fecha en que nací es:

5 Escribe correctamente el nombre completo de tu papá o mamá.




☞ **Escribe** tu respuesta.

6 Escribe correctamente el nombre completo de tu maestro o maestra.



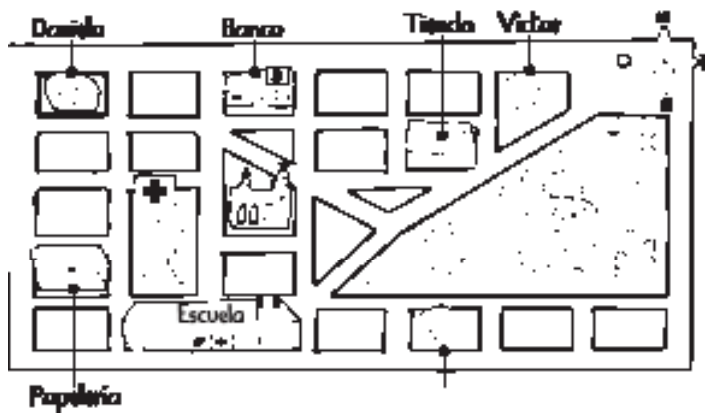
✎ Escribe tu respuesta.

7 Piensa en algún alimento que te guste muchísimo.



✎ Dibuja tu respuesta.

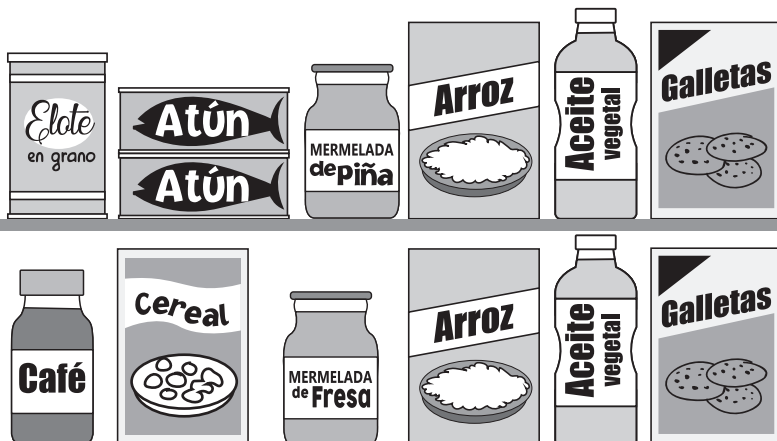
8 - 10 Observa e interpreta el siguiente croquis; luego completa el texto.



✎ Completa.

Víctor vive a la _____ de la tienda. Enfrente de su casa está el _____. A la _____ de la escuela está la papelería.

11 - 13 Observa la imagen y contesta.



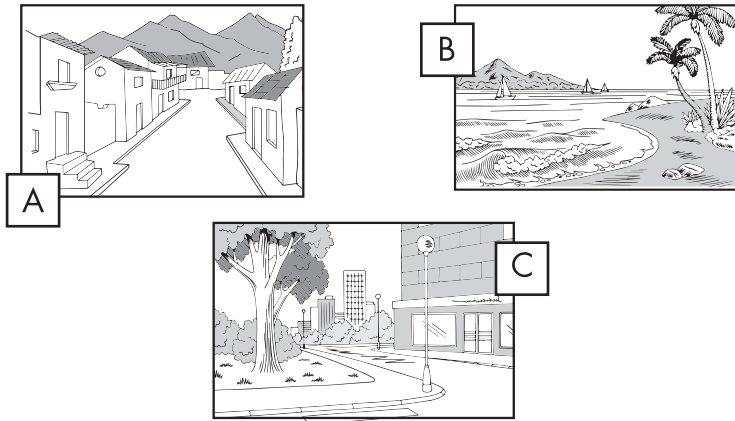
✎ Contesta.

El producto que está entre la lata de elote y el frasco de mermelada de piña, es:

El producto que está a la derecha del del aceite, son:

Lo que está al lado izquierdo del cereal, es:


14 Selecciona la imagen que se parezca al lugar donde vives y completa el texto.



☞ **Escribe** tus respuestas.

El lugar donde yo vivo es _____
y se parece al de la imagen que tiene la letra _____.

15 - 16 Escribe la palabra "sociales" o "naturales", según corresponda.




☞ **Completa** las respuestas.

Los elementos _____ son aquellos que forman parte de la naturaleza.

Los elementos _____ son aquellos que son construidos por el ser humano para su beneficio.

17 - 20 Observa las ilustraciones y enlista dos elementos naturales y dos sociales.



☞ **Escribe** tus respuestas.

Elementos naturales:

Elementos sociales:

