

2

GUIA MENSUAL

noviembre



NOMBRE:

GRUPO:

ESCUELA:



Preparación para
el examen trimestral

Migdalia
TREVINO®




I.(20). Realiza cada actividad conforme se te indique.

1 - 3 Lee el siguiente cuento y enfrente realiza lo que se te pide.

Uga la tortuga

¡Caramba, todo me sale mal!, se lamentaba continuamente Uga, la tortuga. Y no era para menos, siempre era la última en llegar y en terminar sus tareas, y para colmo, era dormilona.



¡Esto tiene que cambiar!, fastidiada de que sus compañeros le recriminaban por su poco esfuerzo, decidió no hacer nada, incluso tareas tan sencillas como amontonar las hojitas secas caídas de los árboles.





“¿Para qué preocuparme en hacer esto?, si mis compañeros terminarán más rápido, mejor me dedico a jugar y descansar”.

“ No es una gran idea”, dijo una hormiguita. “ Lo que realmente cuenta es hacer el trabajo lo mejor que puedas y no hacerlo rápido, así te quedarás con la satisfacción de haberlo logrado”.

☞ Escribe el título del cuento.

Blank box for writing the title.

☞ Encierra dos de los personajes del cuento.



☞ Subraya lo que hizo la hormiga cuando escuchó a la tortuga quejarse.

A. La felicitó.

B. La ignoró.

C. No estuvo de acuerdo con ella.

4 ¿Por medio de qué se enteró Ana que se aplicarán vacunas en su escuela?

A



☞ **Marca** con una **X** la respuesta correcta.

De una carta.

De un examen.

De un cartel.

5 - 8 Observa este anuncio y contesta las preguntas.

B

Servicios Dentales
“Carrillo”
Aprovecha por apertura
25% de descuento



¡Con esta sonrisa si te casas!

Citas: Tel. 26.93.58.63
Ave. Hidalgo 902, Col. Centro

☞ **Escribe** tus respuestas.

¿Qué servicio se ofrece?

¿Qué hay que hacer si deseas hacer una cita?

¿Qué frase llamativa utilizan?

¿Cuál de los dos carteles anteriores es un anuncio publicitario?

9 - 10 Observa los siguientes libros.



☞ **Contesta** las preguntas.

¿Cuál es el título del segundo libro?

¿Quién es el autor?

11 - 13 Lee este fragmento y contesta.

Una bella joven huye de su madrastra y en el bosque encuentra un hogar y extraños amigos. Si deseas saber cómo eran sus amigos, lee el cuento de Blancanieves escrito por los hermanos Grimm.



☞ **Completa.**

Este fragmento del cuento es una _____ para que otras personas lo lean. La recomendación deja a la _____ lo que sucederá con los personajes y la historia. También menciona quienes lo escribieron, o sea, los _____.

14 ¿En qué parte del libro encontramos este texto?

Contraportada

Portada

Lomo



☞ **Escribe** tu respuesta.

15 - 18 Lee el siguiente poema y cambia las palabras resaltadas para escribir uno nuevo a partir del ejemplo.



Abejas

Como manchas **amarillas**
En lo verde van y vienen,
trabajadores insectos,
incansables insectos,
como **antorchas**
van y vienen las abejas.



Armando Rubio Huidobro

☞ **Elige** y escribe las palabras donde correspondan.

linternas

eléctricos

brillantes

luminosos

Luciérnagas

Como estrellitas muy

en la noche van y vienen,

_____ insectos,

_____ insectos,

como _____

van y vienen las luciérnagas.

19 Elige la oración que corresponda a la imagen.



☞ **Elige** tu respuesta.

- Después de cazar ratones; gatos y leones descansan.
- Después de cazar; ratones, gatos y leones descansan.

20 ¿Qué oración corresponde a esta imagen?




☞ **Subraya** la respuesta correcta.

- Mariano compró la máscara.
- María no compró la más cara.



I.(20). Realiza cada actividad conforme se te indique.

1 ¿En qué se parecen estas figuras?



☞ **Marca** con una **X** la respuesta.

Todas tienen cuatro lados.

Todos sus lados son iguales.

Todas tienen tres lados.

2 - 5 Son descripciones de las figuras que están enfrente.

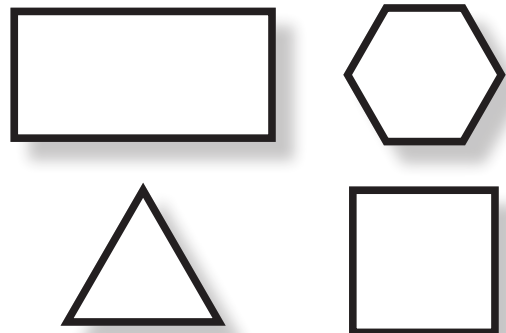
A. Mis tres lados son iguales.

C. Mis cuatro lados son iguales.

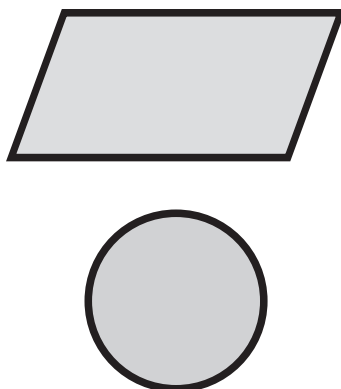

B. Tengo dos lados cortos y dos lados largos.

D. Tengo seis lados iguales.

☞ **Coloca** la letra dentro de la figura según su descripción.



6 - 7 Así se llaman estas figuras.

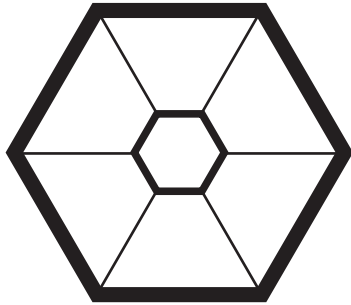


☞ **Completa** los nombres.

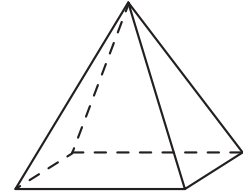
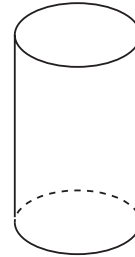
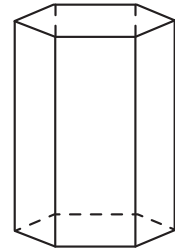
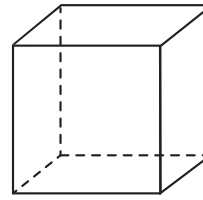
r _ _ _ i _ e

c _ _ u l _

8 Es un sello que debe corresponder a una de las figuras de enfrente.



☞ **Marca** con una **X** la figura.

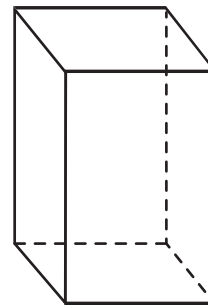


9 Lee la descripción y realiza lo que se te indica.

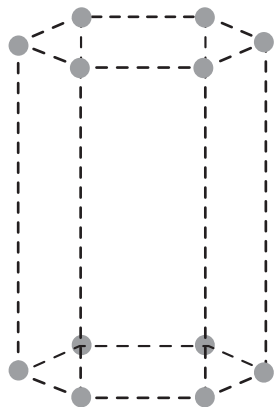
Tengo cuatro caras laterales en forma de rectángulo y dos bases en forma de cuadrado.

☞ **Escribe** el nombre y **sombrea** con tu lápiz las dos bases.

Prisma _____



10-11 Cuenta los vértices y aristas del siguiente cuerpo geométrico.





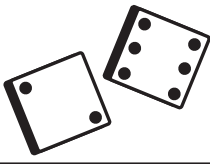

☞ **Escribe** tu respuesta.

● **Vértices**


--- **Aristas**

12 Observa los dados y considera el resultado del primer tiro como decenas y el segundo como unidades.

¿Qué niño obtuvo 100 puntos?

Nombres	Primer tiro	Segundo tiro
Raúl	DECENAS 	UNIDADES 
Manuel	DECENAS 	UNIDADES 

☞ **Escribe** tu respuesta.



13 Son las sumas que dan como resultado 100.



$$25 + 75 =$$

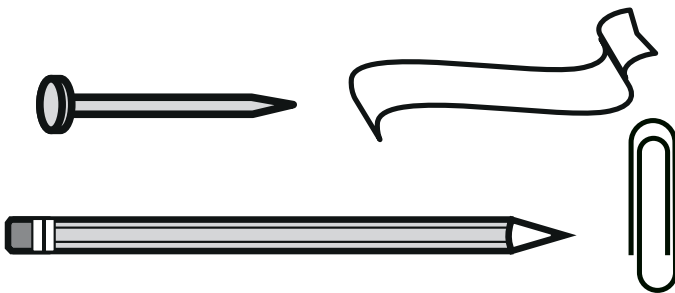
$$40 + 70 =$$

$$35 + 65 =$$

☞ **Escribe** tu respuesta.

y

14 Observa los dibujos e identifica el objeto más largo y el más corto.




☞ **Completa.**

- El objeto más largo es el

y el más corto es el

_____.

15 - 16 Juan y sus amigos jugaron rayuela. Observa donde cayeron las monedas y contesta las preguntas.



☞ **Contesta.**

• ¿Quién ganó?

• ¿Quién quedó más cerca, pero se pasó de la línea?

17 - 20 Observa y calcula.

$\frac{1}{4}$ L



$\frac{1}{2}$ L



1 L



2 L



☞ **Escribe** tus respuestas.

¿Cuántos refrescos de medio litro se necesitan para tener la misma cantidad de un refresco de 2 litros?

 refrescos

¿Cuántos envases de un cuarto de litro se llenan con un refresco de un litro?

 envases

Si tienes dos envases de medio litro y otro de un litro, ¿a qué equivale?

 litros

¿Cuántos envases de medio litro se necesitan para tener 4 litros de refresco?

 envases



I.(20). Realiza cada actividad conforme se te indique.

1 - 3 Escribe el momento del día que corresponde a cada imagen.

A




Cuando el sol se va ocultando.

B



Cuando está la luna en el cielo.

C



Cuando el sol sale e ilumina el día.

Escribe las respuestas.

A

B

C




4 Los animales que están activos durante el día se llaman diurnos. ¿Qué nombre reciben los que están activos durante la noche?



Completa la respuesta.

n _ _ t u _ n _ s

5 ¿Cuál de los siguientes animalitos es diurno?



Marca con una X la respuesta correcta.

Conejo

Búho

Murciélago

6 - 8 Escribe una actividad que realices en cada momento del día.





☞ Escribe tus respuestas.

Mañana _____

Tarde _____

Noche _____

9 - 12 Utiliza las letras para relacionar cada dibujo con el derecho correspondiente.



☞ Escribe.


Educación

Salud

Juego

Alimentación

13 - 16 Clasifica los siguientes juguetes en los de antes y los de ahora.




☞ Escribe tus respuestas.

Juguetes de antes

Juguetes de ahora

17 Cuando participas en un juego grupal, debes seguir sus reglas. ¿Qué sucede si no las cumples?



☞ **Marca** con una **X**.

- Nadie gana.
- Se generan conflictos.
- Nos felicita la maestra.


18 ¿De qué manera se pueden solucionar los conflictos que surgen cuando jugamos en el patio de la escuela?



☞ **Marca** con una **X** la respuesta.

- Haciendo berrinche.
- Gritando
- Con el diálogo.

19 - 20 Observa la ilustración y contesta las preguntas.



☞ **Contesta**.

¿Cómo se llama el juego?

Escribe dos reglas del juego.

- _____
- _____
- _____
- _____