

1

GUIA MENSUAL

noviembre



NOMBRE:

GRUPO:

ESCUELA:



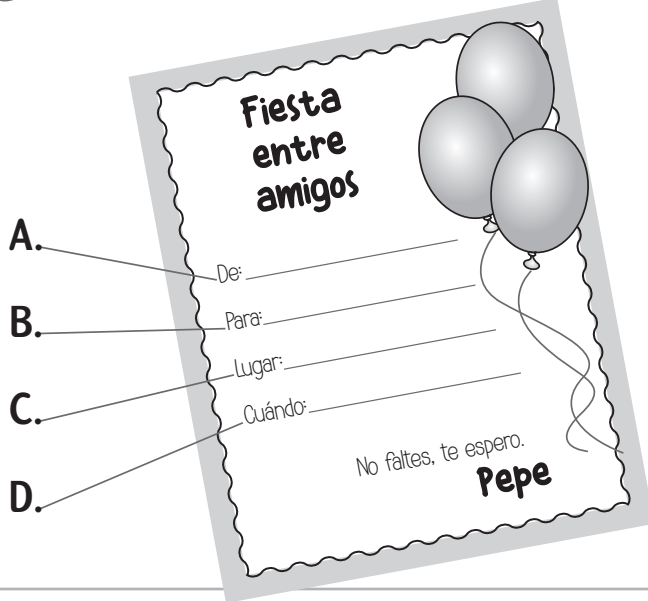
Preparación para
el examen trimestral

Migdalia
TREVINO®

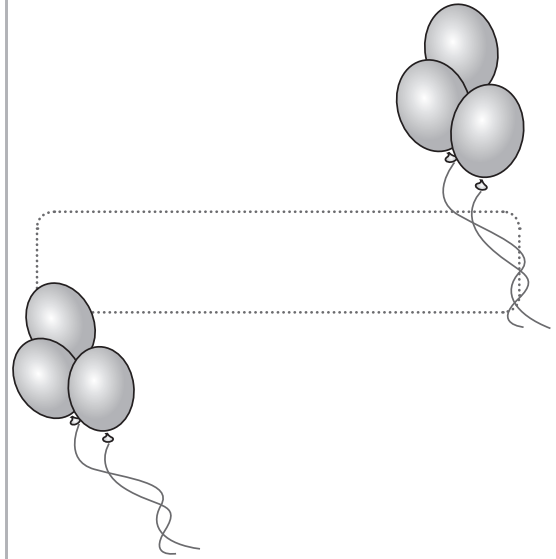


1.(20). Realiza cada actividad conforme se te indique.

1 ¿Qué se ejemplifica a continuación?



Escribe.



2 ¿Qué datos pondrías en la letra C?



Subraya.

- 16 de noviembre.
- Salón de fiestas Loly's.
- 4:00 de la tarde.

3 ¿Quién invita a la fiesta?



Escribe.



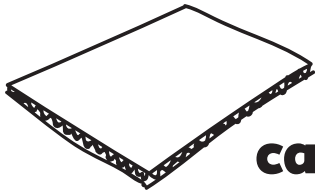
4 ¿Qué se debe escribir en la letra B?



Subraya.

- El nombre del que invita.
- El nombre del invitado.
- El nombre del salón.

5 Encuentra estas tres palabras en el texto.



cartón

jabón



muñeco

☞ **Subraya.**

Pin Pon

Pin Pon es un muñeco muy guapo de cartón, se lava su carita con agua y con jabón.

6 - 7 ¿Cuáles son las palabras que riman en esta estrofa?

Pin Pon

Pin Pon es un muñeco muy guapo de cartón se lava su carita con agua y con jabón.



☞ **Escribe.**

• _____

• _____

8 ¿Qué frase se escribe al iniciar los cuentos?

_____ un niño cuya mayor ilusión era tener un cohete y dispararlo hacia la luna, pero tenía tan poco dinero que no podía comprar uno.

☞ **Escribe.**

9 ¿Qué tipo de texto es el fragmento anterior?



☞ **Marca con una X.**

- Una fábula
- Un chiste
- Un cuento


10 Lee este otro fragmento y completa el dibujo conforme a la historia.

Un día el niño encontró tirada en la calle una caja de uno de sus cohetes favoritos, pero cuando la abrió solo había un pequeño cohete de papel.

☞ **Dibuja** en sus manos lo que encontró.



11 ¿Qué título sería el más apropiado para la historia?



☞ **Marca** con una X.

- El barco de vapor
- Las estrellas y la luna
- El cohete de papel

12 Termina el final del cuento.



☞ **Completa.**

El niño feliz con su

cohete decoró la pared de su recámara, y todos los días

_____.

13 Si a ti te gustan los cuentos y quieres que tus amigos los conozcan, ¿qué harías?



☞ **Marca** con una X.

- Los invitaría a ser mis amigos.
- Los invitaría a que los leyeran.
- Los escondería porque son míos.

14 Luis hace este escrito y se lo da a uno de sus amigos.

Un niño se encuentra un cohete y decora su cuarto como un espacio sideral y juega incansablemente.

Si quieres saber más de esta historia lee el cuento " El cohete de papel" de Sofía Falcón.

☞ **Completa.**

Luis está

el cuento que él ya leyó.

15 - 17 Elige las palabras que completen las partes de la historia que les das a conocer a tus amigos al recomendarle un cuento.

Autor

Historia

Título

☞ **Escribe.**

Primero yo le explicaría de qué trata la

luego le mencionaría el


del cuento y finalmente el nombre del

18 - 20 Coloca en la tabla las letras que se relacionan con el nombre y la imagen.

A tucán

B águila

C balón





1 Matemáticas Noviembre




1. (20). Realiza cada actividad conforme se te indique.



1 - 3 Ubica en la tira de medir la estatura de cada niño.

H

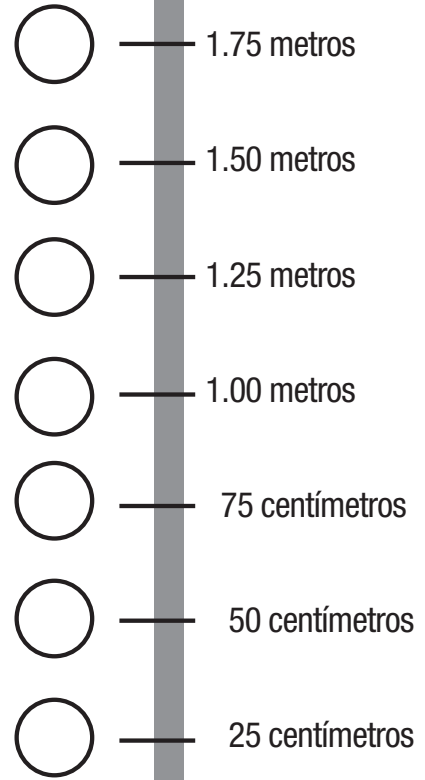
L



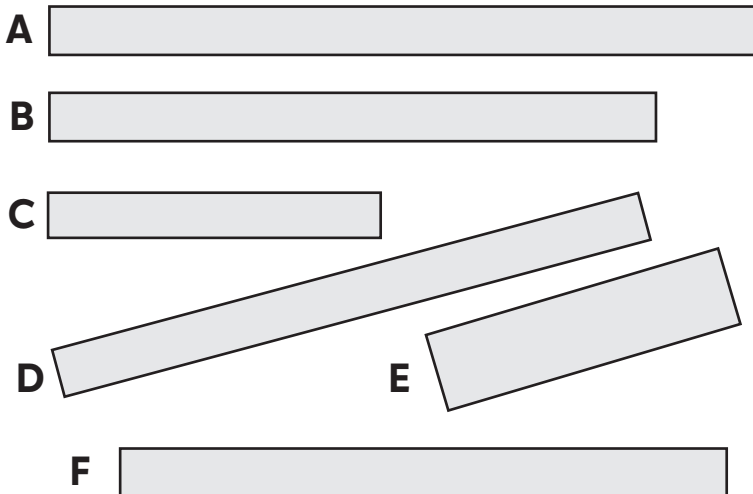
J



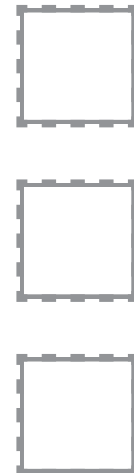
Relaciona con las letras.



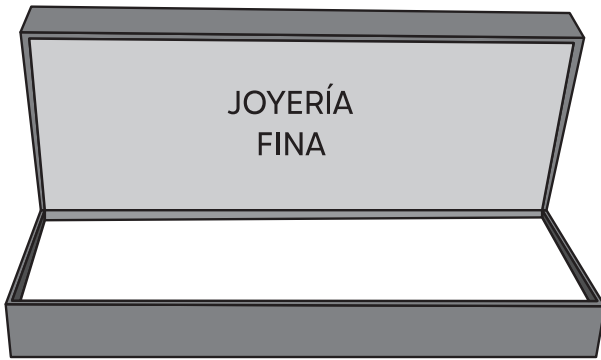
4 - 6 Elige las tres tiras de papel que sean del mismo tamaño.



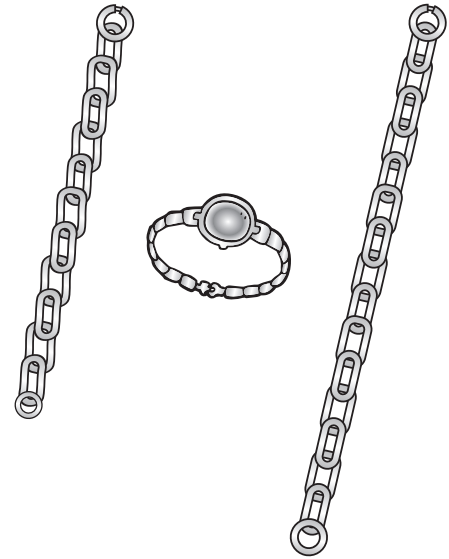
Escribe las letras.




7 Elige la pulsera que le corresponda a este estuche.



Encierra.




8 - 9 Dibuja un listón más largo que el del ejemplo y un lápiz más corto.




Dibuja.




10 Selecciona el marco donde pondrías esta representación.



Tacha el correcto.



11-14 Cuenta cada grupo de cosas.



Cuenta y contesta.

¿Cuántos botones hay?

botones

Si le agregas un botón más, ¿cuántos tendrás ahora?

botones


Si quitas dos nubecitas, ¿cuántas tendrás ahora?

nubecitas

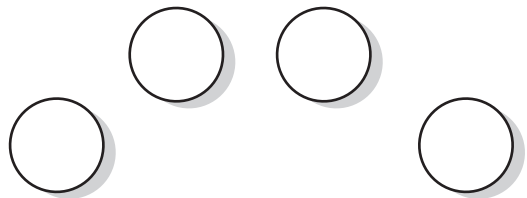
¿Cuántos colores se deben agregar para tener 8?

colores

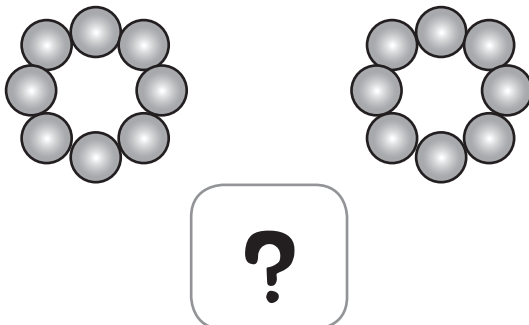
15 Escribe los números que faltan en esta serie.



Cuenta y escribe.



16-17 Cuenta las perlas que comprarías para hacer pulseras.




Contesta.

¿Cuántas perlas necesitas para hacer una pulsera?

¿Cuántas perlas necesitas para hacer tres pulseras iguales?


18 Si cada perla de las pulseras cuesta 1 peso, ¿cuánto te gastarás si compras para elaborar 4 pulseras?



Escribe.

pesos

19 Cuenta el total de puntos que tienen Juan y Julia.



Contesta.

¿A quién le faltan 6 puntos para tener 20?

20 Observa el acomodo de las decenas y unidades en los recuadros; luego completa la suma.

D	
●	●
●	●
●	●
●	●
●	

U	
●	●
●	●
●	●

Completa y escribe el total.

$$\begin{array}{|c|} \hline \mathbf{D} \\ \hline \mathbf{9} \\ \hline \end{array} + \begin{array}{|c|} \hline \mathbf{U} \\ \hline \square \\ \hline \end{array} = \bigcirc$$



1

Conocimiento del Medio

Noviembre



1. (20). Realiza cada actividad conforme se te indique.

1 Si este niño está imitando a un perro, ¿qué sonido debe hacer?



Contesta.

2 - 4 ¿Quiénes podrán hacer mejor representación de estos animalitos, según su estatura o complexión?



Javier




Katy




Raúl

Compara y escribe.






5 - 6 Son nombres de animales que vuelan. (2 ejemplos).




Escribe.


7 - 8 Además de los pájaros, ¿qué otros animales tienen su cuerpo cubierto de plumas?



☞ **Dibuja** dos.



9 - 11 Son animales que tienen su cuerpo cubierto de pelo.




☞ **Marca** con una X.

- Oso
- Ballena
- Pato
- Perro
- Caballo

12 - 13 Son los animales que tienen piel desnuda.



☞ **Encierra.**



14 ¿Cómo tienen cubierto su cuerpo estos animales?



☞ **Completa.**

Cubierto de

15 - 17 Son los colores de algunos animales que has visto. Escribe un ejemplo.




☞ **Escribe.**

Blanco

Verde

Negro


18 Un animal doméstico, es aquel que puede convivir con las personas. Piensa en un ejemplo.



☞ **Dibuja.**

A large, blank, irregularly shaped area with a scalloped border, intended for drawing.

19 - 20 Las mascotas requieren **cuidados** además de mucho cariño. (dos ejemplos).



☞ **Escribe.**

• _____

• _____
